

Nimi ..... Kool .....

Õpetaja .....

### Geograafiaolümpiaadi lõppvooru küsimused 8. klassile

1. Vaata lisalehel pilte ja leia neile ühine pealkiri, mis väljendab kujutatut kõige täpsemalt. 1p

.....

Kirjuta tähe juurde pildil kujutatud loodusnähtuse nimetus. 3p

A ..... B ..... C .....

D ..... E ..... F .....

Nimeta tegurid, mis on nende loodusnähtuste tekke eeldusteks: 2p

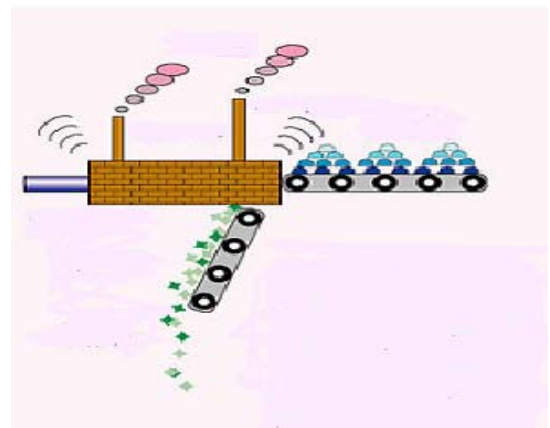
1) .....

2) .....

2. Pildil kujutatud tööstusprotsessi on võimalik seostada Maa litosfääris ja vahevöös toimuva loodusliku protsessiga. 2p

Mis protsess see on? . Selgita .....

.....  
 .....  
 .....



Kirjuta joonisele õigesse kohta võimalikult palju vastava protsessiga seotud mõisteid. 4p

Nimeta 2 piirkonda, kus selline nähtus esineb: 1p

1) ..... 2) .....

3. Joonisel on kujutatud loodusvööndeid vastavalt aasta keskmisele temperatuurile ja sademete hulgale. Mis loodusvööndeid tähistavad numbrid joonisel? 5p

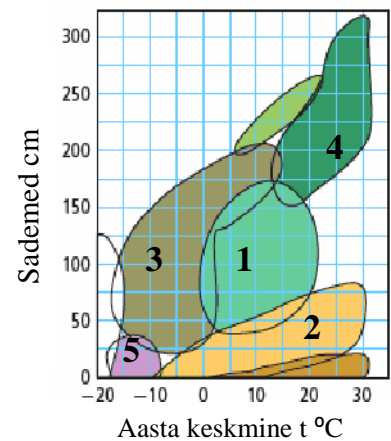
1 ..... 2 .....

3 ..... 4 .....

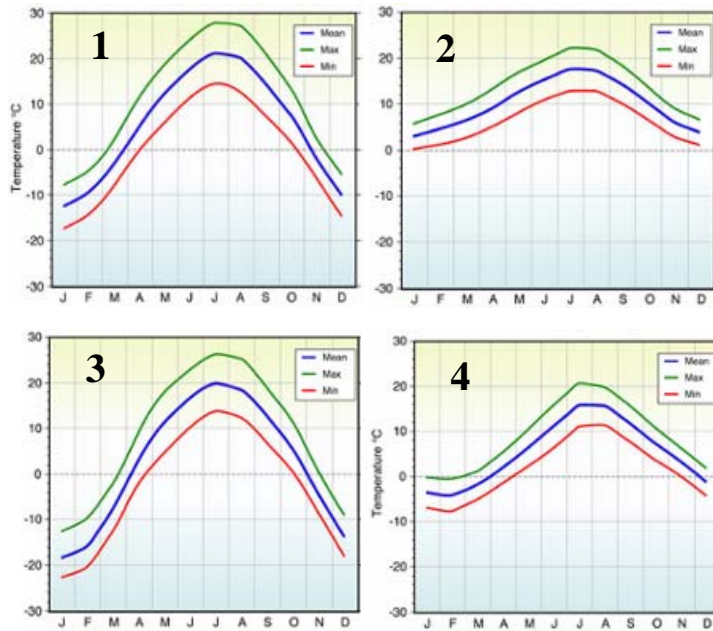
5 .....

4. Mis mõiste ei sobi loetellu? Kriipsuta see maha. Leia ülejäänutele ühine nimetaja. 6p

- a) boora, mistraal, samuum, föön .....
- b) pusta, selva, veld, pampa .....
- c) sorgo, jamss, bataat, maniokk .....
- d) kiivi, emu, flamingo, nandu .....
- e) apelsin, pomelo, mandariin, mango .....
- f) araukaaria, sekvoia, eukalüpt, tsuuga .....



5. Diagrammidel on kujutatud aastast temperatuuri käiku (max, min ja keskmine) kaardil kujutatud linnades. Vii kliimadiagramm kokku sobiva kohaga. Kirjuta diagrammi number kaardile vastava linna nime juurde. 2p



Põhjenda oma valikut, selgitades kliimatkujundavate tegurite mõju nende kohtade kliimale. 6p

- 1: .....
- .....
- 2: .....
- .....
- 3: .....
- .....
- 4: .....
- .....

Mis kliimat kujundav tegur on kõigi kohtade puhul sarnane? Selgita. 2p

- .....
- .....
- .....

6. Pildidel on kujutatud tühja pudeli kuju muutumist erinevatel kõrgustel. Otsusta, kas see on toimunud mäkke tõusul või laskumisel. Põhjenda. 2p

- .....
- .....
- .....
- .....
- .....



7. Vaata lisalehel olevat kaarti. Mida on sellel kujutatud? ..... 1p

Kuidas on selline maastik kujunenud? ..... 2p

.....

Mis piirkondades Eestis esineb sellist maastikku? Too kaks näidet. 2p

.....

8. Moodusta loetelus olevatest mõistetest omavahel seotud paarid ja leia riik, millele need on iseloomulikud. Üks mõiste ja riik on üleliigsed. 6p

*Mussoon, fjord, luide, liustik, maasäär, alamik, fossiil, passaat, rift, üleujutus, lubjakivi, kuum täpp, polder Poola, Kanada, Brasiilia, Hiina, Island, Eesti, Holland.*

Mõistepaarid	Riik

9. Eestis kantakse rahvariideid rahvuslikel suurüritustel ja olulistel tähtpäevadel, tänavapildis kohtab neid harva. Maailmas on aga riike ja piirkondi, kus rahvariiete kandmine on igapäevane tava. Vaata lisalehel pilte ja täida vastav tabel. 6p

	Riietuse nimetus	Riik, kus seda kantakse	Valitsev usund selles riigis
1.			
2.			
3.			

10. Egiptuse püramiididel on kaudne seos Eesti ja Lääne-Virumaaga. Milles see seos seisneb? 2p

.....

.....

11. „Vihmametsa võib leida meie toas ja toidulaual” – too näiteid selle ütluse sisu kohta. 3p

1) .....

2) .....

3) .....

12. Mäestikes võib tihti kohata sarnast ilmastikuga seotud pilti. Mis on selle põhjuseks? Selgita pikemalt. 2p

.....

.....

.....

Lisalett: pildid

Ü1



A



B



C



D



E



F

Ü1 7



Ü1 12



Ü1 10



1



2



3