

Nimi.....

Kool..... Õpetaja.....

Geograafiaolümpiaadi maakonnavoru küsimused 8. klassile

1. a) Mis on hoovus? 1p

b) Kuidas hoovused tekivad? 2p

c) Kuidas mõjutab rannikualade kliimat Kanaari hoovus?. 2p

Kuidas Kariibi hoovus? 2p

2. Paranda valed väited õigeks eitust kasutamata 4p

Kõige rohkem päikest saavad piirkonnad, mis jäävad 30.laiuskraadidele tõene/väär

Saksamaa pealinna Berliini läbib Reini jõgi tõene/väär

Euroopa kõrgeim tipp Elbrus asub Prantsusmaal tõene/väär

Põhjapoolusel on praegu polaaröö tõene/väär

3. Kas mäe suhteline kõrgus võib olla suurem kui absoluutne kõrgus? Selgita? 3p

4. 1. jaanuaril tuleb Eestis käibe Euro, mille kupüürid on kogu eurotsoonis ühesugused ning Eestis asuvaid objekte neil kujutatud pole. Milliseid geograafilisi objekte on kujutatud Eestis praegu veel käibel olevatel paberkupüüridel. 4p

1 kroon..... 2 krooni.....

5 krooni..... 10 krooni.....

25 krooni..... 50 krooni.....

100 krooni..... 500krooni.....

5. Kus on mõõdetud Eesti kõigi aegade sooja- ning külmarekordid? Mitu kraadi need on? 2p

Soojarekord:.....

Külmarekord:.....

6. Mis jõe suuet on pildil kujutatud? 1p

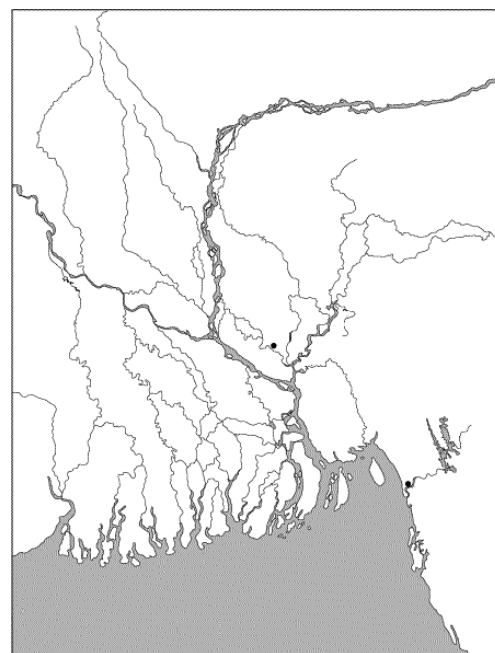
.....
 Kuidas sellist suudme tüüpi nimetatakse? 1p

Kuidas selline jõe suue kujuneb? 2p

.....

Nimeta 2 jõge, millel on sarnane suue. 2p

.....



7. Eesti pealinn on Tallinn, kuid igal aastaajal antakse vastav tiitel ka teistele linnadele? Mis linnad on pealinnadeks eri aastaegadel? 4p

Kevadpealinn.....Suvepealinn.....

Sügispealinn.....Talvepealinn.....

8. a) Mis loom on pildil (vt joonis 1)?..... 1p

b) Mis eesmärgil looma kasvatatakse (kuidas rakendatakse)? 2p

.....

c) Millised on selle looma kohastumised eluks? 2p

.....

d) Milline on selle looma tähtsus geograafia ajaloos? 1p

.....

9. Võrdle Himaalaja ja Andide mäestiku teket. 4p

.....

10. Turistid alustasid lennureisi Tokyost Los Angeles'i laupäeva hommikul kell 6. Lennureis kestis 6 tundi. Mis päeval ja mis kellaajal jõudsid nad Los Angeles'i? 2 p

11. Lõpeta laused.

6p

Hispaania naabriteks on: Prantsusmaa,

Hispaaniale **kuuluvad** veel Baleaari saared Vahemeres,

Kõige tihedamini on asustatud Hispaania rannikuala,

Hispaania on tuntud turismimaa, sest

12. a) Tõmba joon alla linnale, kus täna paistab päike keskpäeval seniidis.

2p

Quitos, Dhakas, Windhoekis, Sao Paulos.

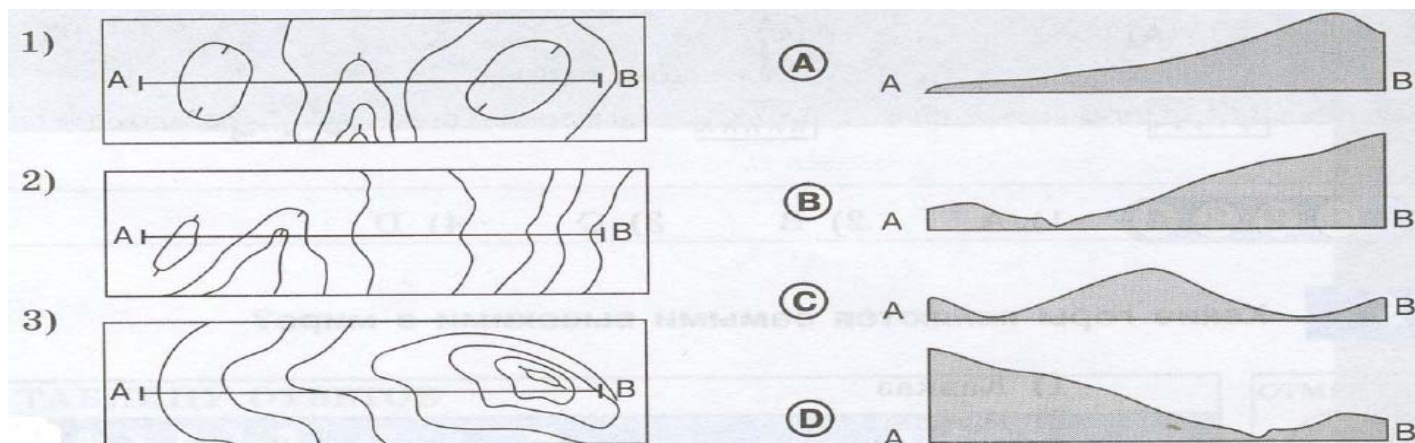
b) Kus kestab polaaröö kauem, kas Karusaarel või Jan Mayeni saarel?

1p

13. Vii vastavusse pinnavormide ristprofiilid ja horisontaalidega kujutised. Üks jääb üle.

1)..... 2)..... 3).....

3p



14. Mis pinnavorme esineb Tartumaal?

3p

15. Mida on fotol kujutatud? Märki see koht vastava tähega kaardile.

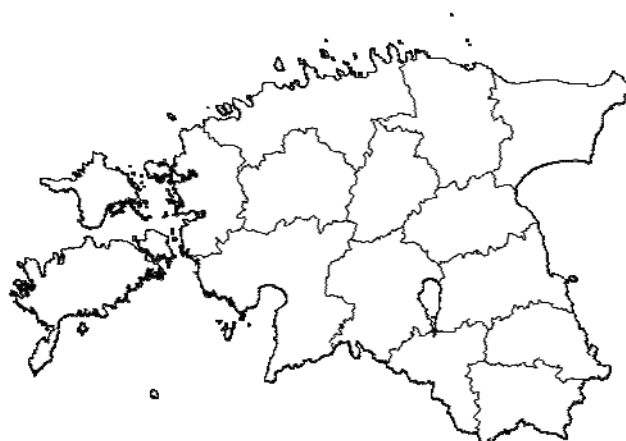
4 p

Fotol A on kujutatud

Fotol B on kujutatud

Fotol C on kujutatud

Fotol D on kujutatud



Joonis 1.



A

B



C



D

