

Имя и фамилия

Школа Учитель

Вопросы уездного тура олимпиады по географии для гимназии

1. Сравни, с помощью Атласа Эстонии, экономико-географическое положение городов Пылва и Йыгева. Укажи сходства. 26

Сходства:
.....
.....
.....

2. Посмотри карту номер 1 на дополнительном листе. На ней изображены государства мире с площадью, соответствующей одному показателю. Придумай для этой карты подходящее название.

..... 16

3. а) Укажи на карте местонахождение вулкана Мерапи (Merapi). 26



б) Как движутся тектонические плиты в этом регионе, и почему там так много действующих вулканов? 26

.....
.....
.....

с) Почему вулкан Мерапи особенно опасен? 16

.....

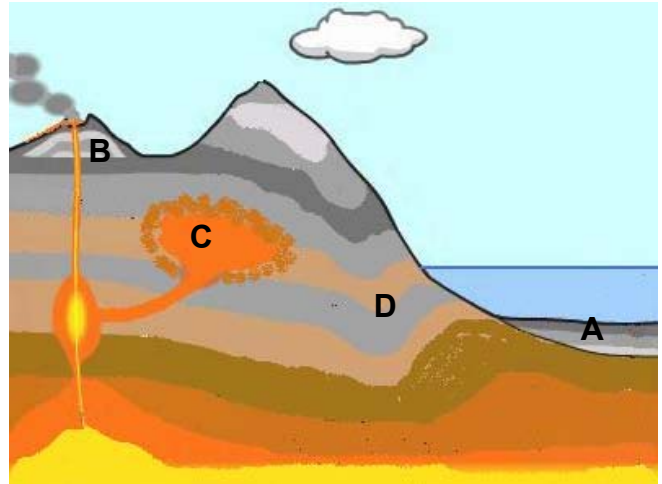
4. а) Почему материковая земная кора древнее океанической? 26

.....
.....

б) В каких местах образуется новая материковая земная кора? 16

.....
.....

5. Какого происхождения горные породы встречаются в местах, обозначенных на схеме буквами? Приведи по одному конкретному примеру каждого типа горной породы. 46



- A
- B
- C
- D

6. a) Что такое сланцевый газ? 26

.....


b) Почему производство сланцевого газа приобрело большой размах именно в последнее время? 16

.....

c) Какие опасности могут быть сопряжены с производством сланцевого газа? 16

.....

7. Дополни рисунок так, чтобы он показывал положение Земли по отношению к Солнцу в **день зимнего солнцестояния**. Укажи на рисунке: а) *положение земной оси, Южный полюс, Северный полюс и экватор*, б) *изобрази границу дня и ночи*; с) *нарисуй линии тропиков и полярные круги*; д) *закрась область, где в это время полярная ночь*. 6 б



Maakera



Световое излучение Солнца

8. Что такое справедливая торговля? 26

.....

9. а) Почему в мире быстро растет объем именно контейнерных перевозок? 2 б

.....

б) Чем наполняют многие суда-контейнеровозы, идущие из США обратно в Китай? Выбери правильный ответ из списка и дай обоснование своего выбора. 2 б

а) одеждой и обувью, б) военной техникой в) нефтью и нефтепродуктами, г) макулатурой и использованными упаковками

Обоснование:

.....

10. Назови типы судов, на которых перевозят жидкий газ, руду, древесину и зерно 2 б

жидкий газ руду
 древесину зерно

11. В будущем году откроется погранично-таможенная станция Койдула. Она позволит значительно увеличить объем железнодорожных перевозок. В каких направлениях? 2 б

.....

12. Этим летом Пакистан пострадал от обширных наводнений, последствия которых сопоставимы с последствиями цунами в Юго-Восточной Азии в 2004 году или недавнего землетрясения в Гаити.

а) Почему произошли обширные наводнения в Пакистане? 2 б

.....

б) Почему последствия этих наводнений сравниваются с последствиями землетрясения в Гаити и даже со стихийным бедствием в Юго-Восточной Азии, хотя, в случае наводнения, погибших было гораздо меньше? 3 б

.....

13. Какие «старые» страны Европейского Союза не входят в зону евро? 2 б

.....

14. Почему Тибет постоянно находится в сфере внимания международной общественности? 2 б

.....

15. Посмотри на последней странице фото 1. а) Придумай для этой фотографии подпись, которая бы хорошо отражала показанное на ней явление. 1 б

.....

б) Как возникает показанный на фотографии ландшафт? 2 б

.....

в) При каких условиях возникает такой ландшафт? 2 б

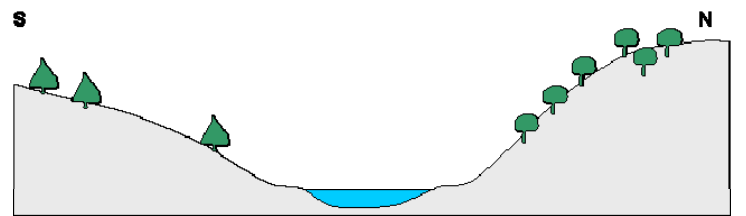
.....

г) На карте Эстонии пронумерованы четыре места. Для каких из этих мест характерен такой ландшафт? Для мест, отмеченных на карте цифрами: 2 б

16. На рисунке показана долина реки, вытянутая в направлении восток-запад. На каком склоне долины выгоднее разбить виноградник?

Обоснуй ответ. 2 б

.....



17. В последнее время в публиковались фотографии внезапно образовавшихся довольно глубоких провалов. Один такой появился недавно в Германии. Как могут образоваться такие провалы? 2 б

.....

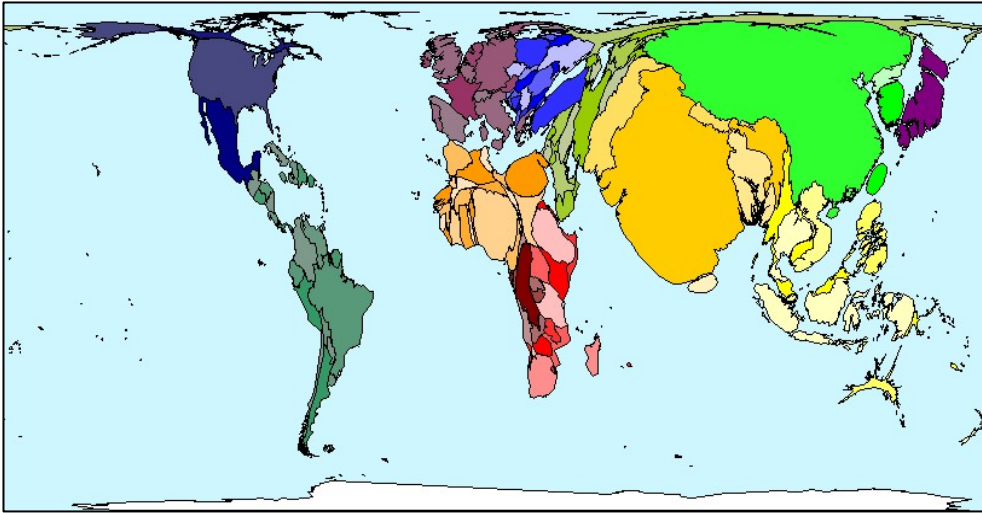
18. Сравни графики колебания уровня воды в реках Пыльтсамаа (Põltsamaa) и Вяйке-Эмайыги (Väike-Emajõgi) за один и тот же период. Почему они такие разные? 3 б

.....

19. Сравни климатические диаграммы городов Sydney и General Acha, приведенные в Атласе мира (стр. 77). Города расположены примерно на одной широте. Чем различается климат этих городов. Поясни ответ. 4 б

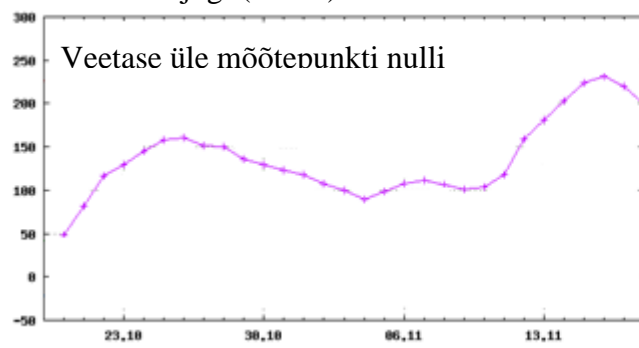
.....

Kaart 1



Schmalkalden, Saksamaa, 1.11.2010. Jens Meyer / AP photo

Väike-Emajõgi (Sooru)



Põltsamaa jõgi (Põltsamaa)

