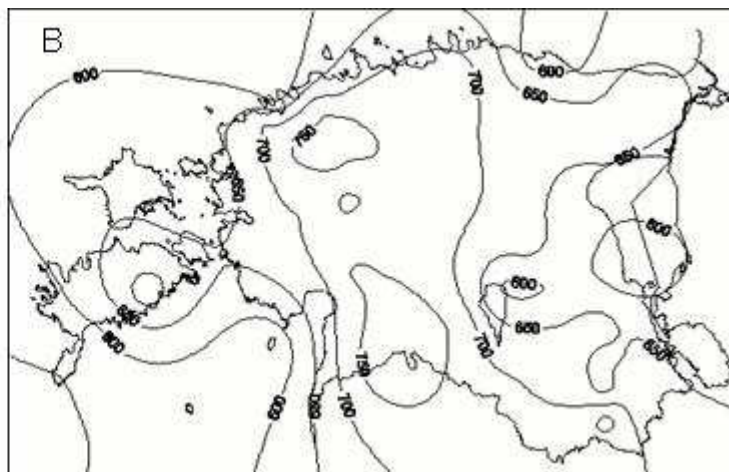
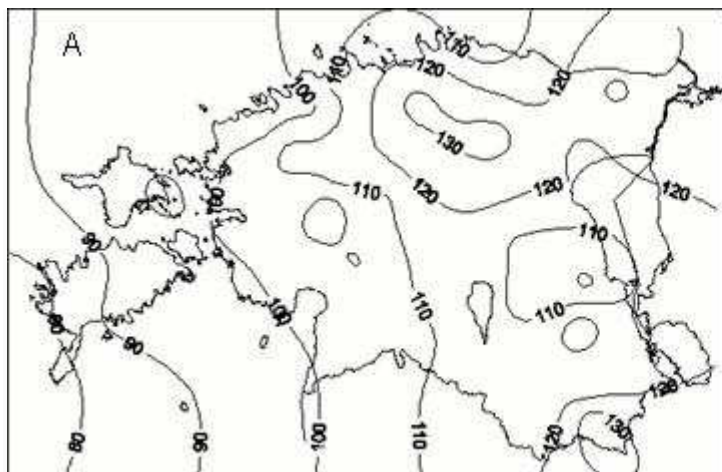


Geograafiaolümpiaadi maakonnavor 2011/12 Gümnaasiumi arvutivoor – TECT

1

Punktid: 1,0



Что показано на картах А и В?

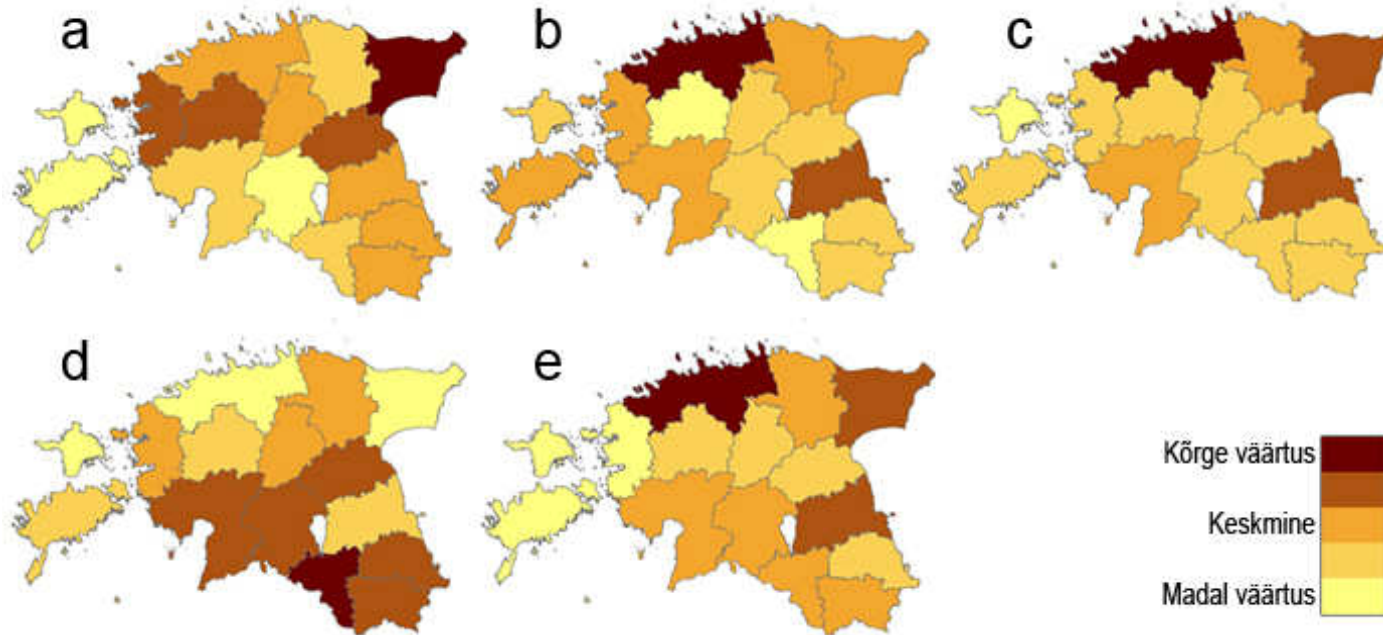
На карте А

На карте В

2

Punktid: 2,5

На картах показаны различные показатели по уездам. Соедини карту с соответствующим показателем.



уровень безработицы

средняя зарплата

численность населения

доля иждивенцев

плотность населения

3 🗺️

Punktid: 2,0

Даны географические координаты шести пунктов (A–F). Расстояние между какими тремя парами пунктов (A–D, B–E и C– F) самое маленькое, среднее и самое большое?

A 10° 09.203'N 70° 50.467'E	B 83° 35.294'N 95° 11.765'W	C 58° 36.098'N 26° 36.088'E
D 12° 40.039'N 141° 2.150'E	E 82° 24.484'N 173° 19.279'E	F 37° 0.007'S 77° 54.330'E

A-D

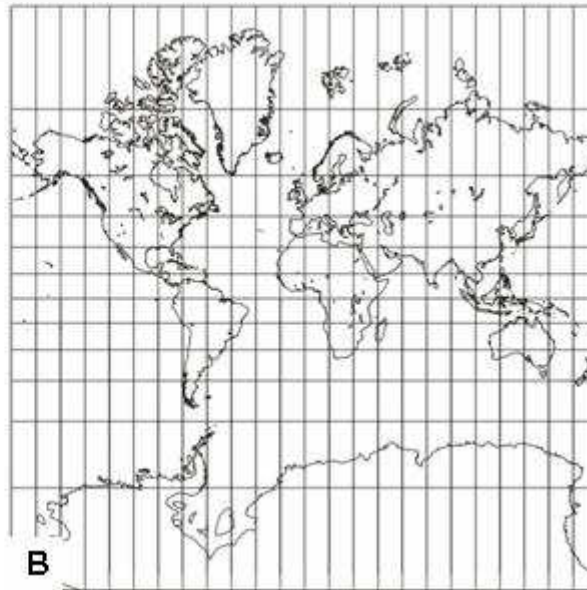
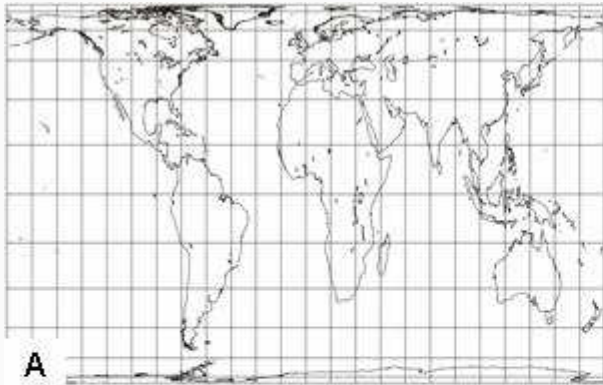
B-E

C-F

4 📄

Punktid: 2,0

Какая из карт выполнена в равновеликой, и какая в равноугольной проекции?



Карта А выполнена в

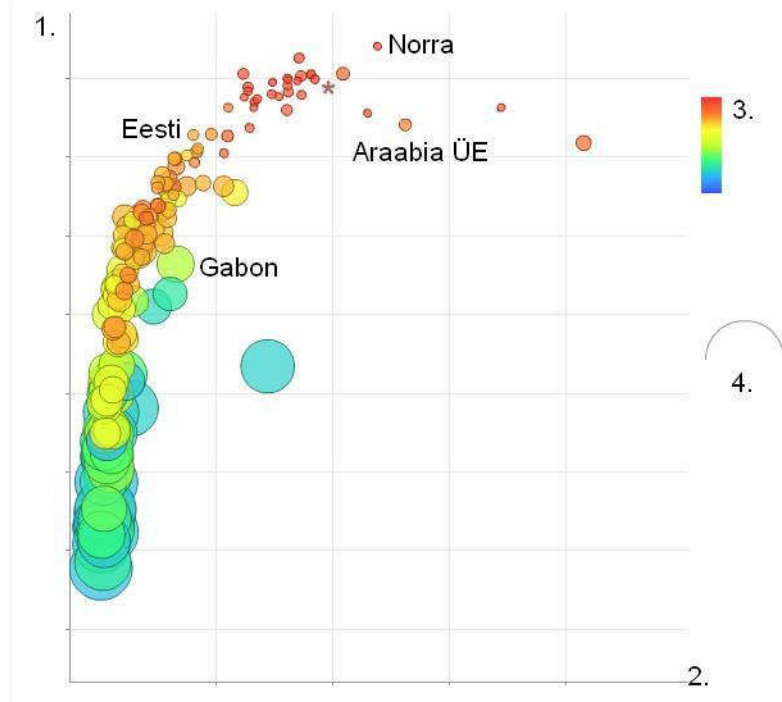
Карта В выполнена в

Какую карту правильнее взять за основу для вычисления плотности населения?

5

Punktid: 2,5

На рисунке государства распределены по четырем показателям: индексу человеческого развития, ожидаемой средней продолжительности жизни, ВВП на душу населения и смертности детей до пятилетнего возраста. Как эти показатели отражены на рисунке?



Индекс человеческого развития

ВВП на душу населения




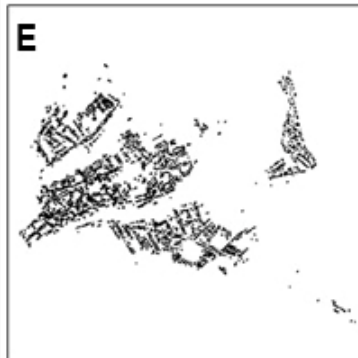
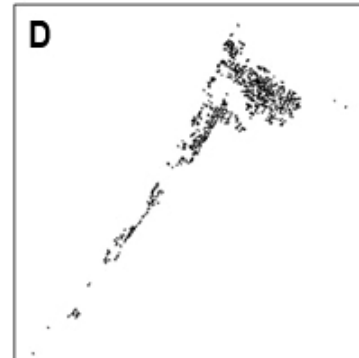



Ожидаемая средняя продолжительность жизни

Смертность детей до пятилетнего возраста

6 🚩

Punktid: 4,0

На рисунках изображены города Эстонии (жилые и общественные здания, находящиеся в административных границах города).
Какие именно?



A <input type="text"/>	B <input type="text"/>	C <input type="text"/>	D <input type="text"/>
E <input type="text"/>	F <input type="text"/>	G <input type="text"/>	H <input type="text"/>

7 🚩

Punktid: 1,0

Ниже приведены 5 снимков, 4 из которых сделаны в одной стране, а один нет. В какой стране сделаны 4 снимка? Найди один снимок, который сделан не в этой стране.

снимки: Nick Jensen, Hazim Anzawi, Jonathan Lewis, wikitravel.org, hellomagazine.com.

Эта страна:

К ней не относится снимок:

Pilt 1



Pilt 2



Pilt 4



Pilt 3



Pilt 5



8 🗺️

Punktid: 1,0

До последнего времени основой для измерения высот в Эстонии был Кронштадтский нулевой уровень. На нулевой уровень какого города собирается перейти Эстония в будущем? Сделай правильный выбор из списка.

Vali üks vastus.



a. Рига



b. Стокгольм



c. Амстердам



d. Хельсинки

9 🚩

Punktid: 1,0

Что это за белая линия на фотографии?




Vali üks vastus.

- a. магматическая жила, или дайка
- b. обозначение нулевого меридиана
- c. обозначение полярного круга
- d. обозначение государственной границы
- e. навигационный знак

10 🏠

Punktid: 1,0

В какой промежуток времени сделан этот ортоснимок?



Vali üks vastus.



a. 8.00-10.00



b. 11.00-13.00

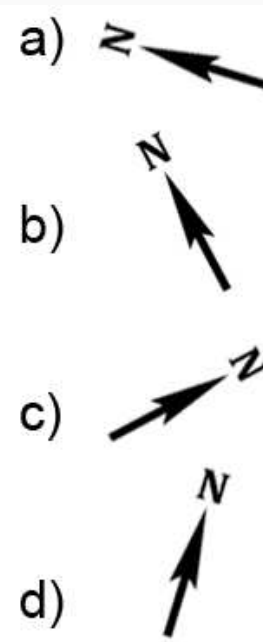
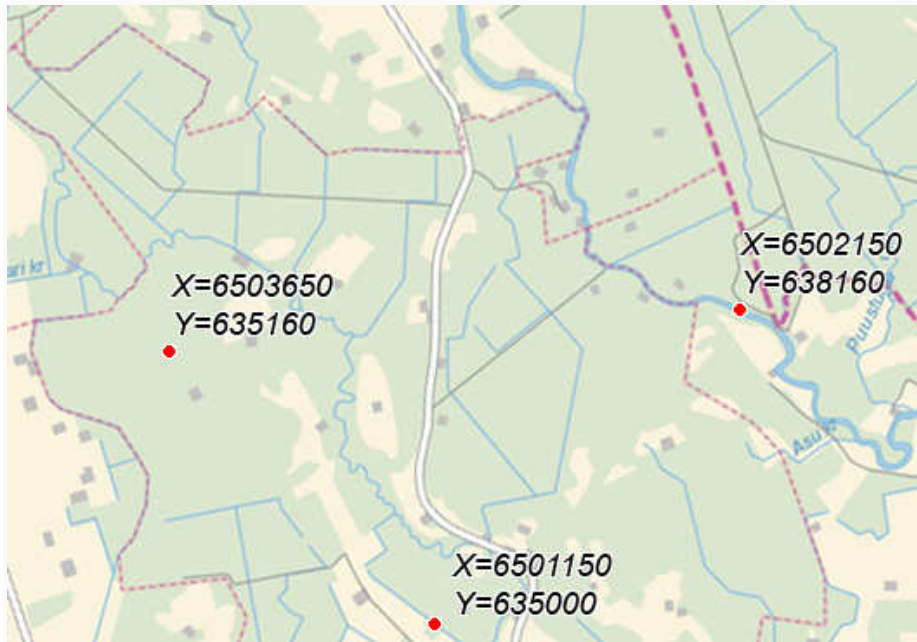


c. 15.00-17.00

11 🗺️

Punktid: 2,0

На карте отмечены 3 пункта в эстонской геодезической системе координат LEST97. Определи на основе пунктов, какое направление на север истинное? (Подсказка: направление на север совпадает с направлением оси x).



Vali üks vastus.



a



b



c



d