

NimiKool

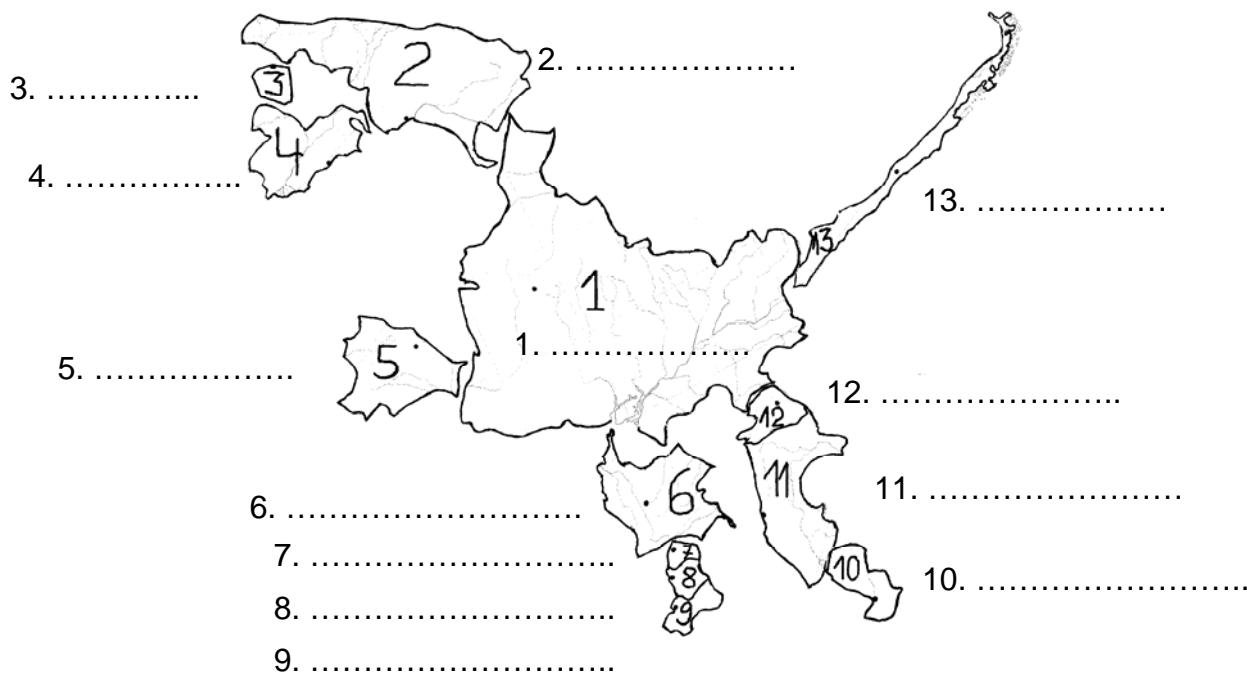
Õpetaja

Geograafiaolümpiaadi maakonnavoru küsimused 7. klassile

1. Mari pidi kontuurkaardilt õppima Lõuna-Ameerika riike. Väike vend oli aga käärid kätte saanud ning esitas riikide paigutusest oma versiooni, sest temale pakkusid parasjagu huvi saarusid.

a) Aita Maril leida riikidele õiged nimetused.

4 p



b) Lõuna-Ameerika on manner / maailmajagu (tõmba õigele sõnale joon alla).

1p

2. Paljudele on tuttav animategelane Simpson. Mis kohta ja mis nähtust tähistab sama nimi maailmas?

2p

3. Ekspertgrupp väljus Tallinnast helikopteriga ning maandus koordinaatidel 55°35' pl ja 26°30' ip.

a) Mis riigis maanduti?

1p

b) Mis tuntud energiaettevõtet külastati?

1p

c) Mis huvi oli/on Eestil seoses selle ettevõttega?

1p

4. Täida tabel:

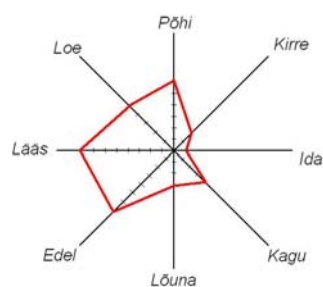
6p

Saare nimetus	Riik, millele saar kuulub	Veekogu, kus saar asub	Saare keskpunkti koordinaadid
Kolgujev			
Madeira			
Rapa			

5. Mida on joonisel kujutatud? 1p

Iseloomusta seda:

.....
 1p



Kas see võiks iseloomustada Eestit? Põhjenda.

.....
 1p

6. Võrdle Läänemere veetemperatuuri (juulis), soolsust ja jääkatte teket Oulu ja Gdanski lähedal lahes. Põhjenda erinevusi nende kohtade näitajates. 6p

	Oulu	Gdansk
Veetemperatuur juulis. Põhjendus.
Soolsus. Põhjendus.
Jääkatte ulatus. Põhjendus.

7. Martin sõitis koos perega puhkusele. Nad startisid laevaga Tallinnast 16. juuni õhtul kell 19.00. Laev randus Stockholmis kohaliku aja järgi kell 9.00 järgmisel hommikul.

a) Mitu tundi kestis laevareis Tallinnast Stockholmi? 1p

Nad jätkasid oma reisi lennukiga Stockholmist New Yorki õhtul kell 18. Reis kestis 11 tundi.

b) Mis kell kohaliku aja järgi maanduti New Yorgis? 2p

New Yorgist sõideti Puerto Rico pealinna San Juani.

c) New Yorgist on sinna linnulennul km 1p

e) Kus pidi Martin kogu reisi jooksul oma kella keerama ja kuidas, et teada õiget (kohalikku) aega?

.....
 2p

8. Igas loetelus on üks liigne objekt. Tõmba see maha ja kirjuta objektide ühine nimetus. 4p

Gibraltar, Montevideo, La Manche, Kurkse -

Liguuria, Suessi, Kieli, Panama -

Atacama, Kiruna, Namibi, Gobi -

Baffini, Sumatra, Hindustani, Haiti -

9. a) Vii kokku geoloogilised protsessid kaardil tähistatud kohtadega. Kaardile märgi väite ees olev number. 4p

1. Ookeanilaama sukeldumine mandrilaama alla.

2. Kahe mandrilaama pörkumine.

3. Ookeanilaamade lahknemine.

4. Ookeanilaama sukeldumine teise ookeanilaama alla.

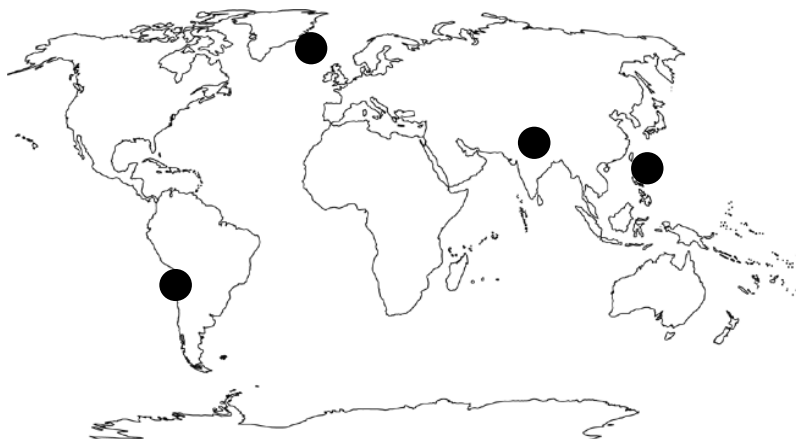
b) Kirjuta vastav täht kaardil märgitud koha juurde, kus 4p

esineb maavärinaid (M)

on vulkaanilisi saari (V)

on tekkinud süvik (S)

maakoor on surutud kurdudesse (K)



10. Kaardidel on väljavõtted CORINE maakattekaardist. Milliste maakattetüüpidega on tegemist? Vali loetelust õiged ja seosta kaardiga. 4p

Linnad, metsad, põllumaad, kaevandused, jõgede valgalad, asulad, märgalad, kõrgustikud

A B C D



11. Määra piltide põhjal kooslused ning kirjuta nimetus punktiirile. Abiks on ka iga koosluse tunnusliikide loetelu. Lisa iga loetelu ees olev täht õige koosluse juurde. 6p



A Harilik küüvits, murakas, jõhvikas, huulhein, kanarbik, turbasamblad, kukemari jmt.

B Harilik toomingas, harilik pihlakas, harilik saar, harilik jalakas, magesõstar, harilik sarapuu, naat, metspipar jpt.

C Harilik kuusk, arukask, harilik pihklakas, harilik sarapuu, paju, võsaülane, ussilakk jpt.

D Kadakas, kibuvits, aasrebasesaba, värihein, aas-seahernes, härjasilm, suureõieline kellukas jpt.

12. Kirjuta iga pildi juurde, mis Eestimaa saart on sellel kujutatud? Vastust aitavad leida allolevad läbisegi esitatud faktid. Paiguta faktid õige saare juurde, lisades fakti ees oleva numbriga pildi alla. 6p

1. saart ümbritseb arvukalt väikeseid laide,
2. suurem osa saarest on madalsoo,
3. Neugrundi meteoriidikraater asub saarest 7 km kirdes
4. traditsioonilised tegevused on kalapüük ja sibulakasvatus,
5. suuruselt 7. saar Eestis,
6. rahvastikus on ülekaalus vene vanausulised,
7. saart läbib Balti klint,
8. kuni 1944. aastani elasid saarel rootslased;
9. saare naised on tuntud käsitöö, laulu ja tantsuga.

