

Имя и фамилия Школа

Учитель

Вопросы уездного тура олимпиады по географии для 8 класса

1. Экспертная группа вылетела из Таллинна на вертолете и опустилась в месте с координатами 55°35' с. ш. и 26°30' в. д.

а) Какое известное энергетическое предприятие они посетили? 16

б) Почему Эстония (была) заинтересована в этом предприятии? 16

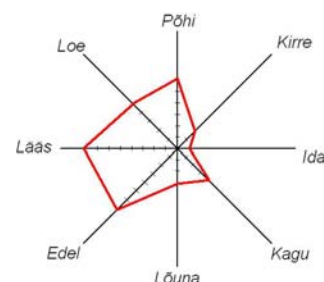
2. Что изображено на рисунке? 16

Опиши содержание рисунка:

..... 16

Характерна ли эта картина для Эстонии? Поясни ответ.

..... 16



3. Сравни температуру воды в июле, соленость и особенности образования ледяного покрова в заливах Балтийского моря близ Оулу и Гданьска. 6р

	Оулу (Oulu)	Гданьск (Gdansk)
Температура воды в июле. Пояснение.
Соленость. Пояснение.
Замерзание. Пояснение.

4. Охарактеризуй размещение и плотность населения в Вильяндиском уезде. Объясни причины такого размещения. 4б

.....
.....
.....

5. Мартин отправился с семьей на отдых. Они отплыли на корабле из Таллинна 16 июня вечером в 19.00. Корабль прибыл в Стокгольм на следующее утро в 9.00 по местному времени.

а) Сколько часов длилось плавание из Таллинна в Стокгольм? 1 б

Из Стокгольма они вылетели в Нью-Йорк вечером в 18 часов. Полет продолжался 11 часов.

б) Во сколько, по местному времени, самолет приземлился в Нью-Йорке? 2 б

Из Нью-Йорка они отправились в Столицу Пуэрто-Рико Сан-Хуан.

с) От Нью-Йорка до Сан-Хуана по прямой км 1 б

д) На протяжении всего рейса Мартин должен был переводить часы, чтобы знать местное время. Где именно и как?

..... 2 б

6. В каждом перечне один лишний объект. Зачеркни его и напиши обобщающее название объектов. 4 б

Гибралтар, Монтевидео, Ла-Манш, Курксе -

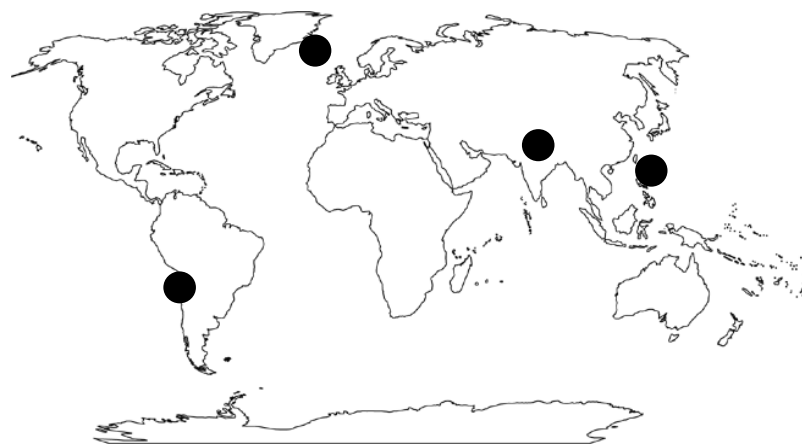
Лигурийский, Суэцкий, Кильский, Панамский -

Атакама, Кируна, Намиб, Гоби -

Баффинова Земля, Суматра, Индостан, Гаити -

7. а) Соедини геологические процессы с отмеченными на карте местами, написав на карте номер процесса. 4 б

- 1. Погружение океанической плиты под материковую.
- 2. Столкновение двух материковых плит.
- 3. Расхождение двух океанических плит.
- 4. Погружение океанической плиты под другую океаническую плиту.



- б) Напиши соответствующие буквы в отмеченных на карте местах туда, где
 - бывают землетрясения (М)
 - есть вулканические острова (V)
 - образовался глубоководный жёлоб (S)
 - земная кора сжата в складки (К) 4 б

8. Верхоянск – одно из самых холодных мест в мире. Зимние температуры часто опускаются там ниже -40°C и держатся на этом уровне долгое время. Объясни, почему в Верхоянске такой суровый климат. 3 б

.....
.....
.....

9. Что это такое – альтиплано? 3 б

В каких государствах (4) оно распространяется?

10. Какова основная причина образования природных зон? 2 б

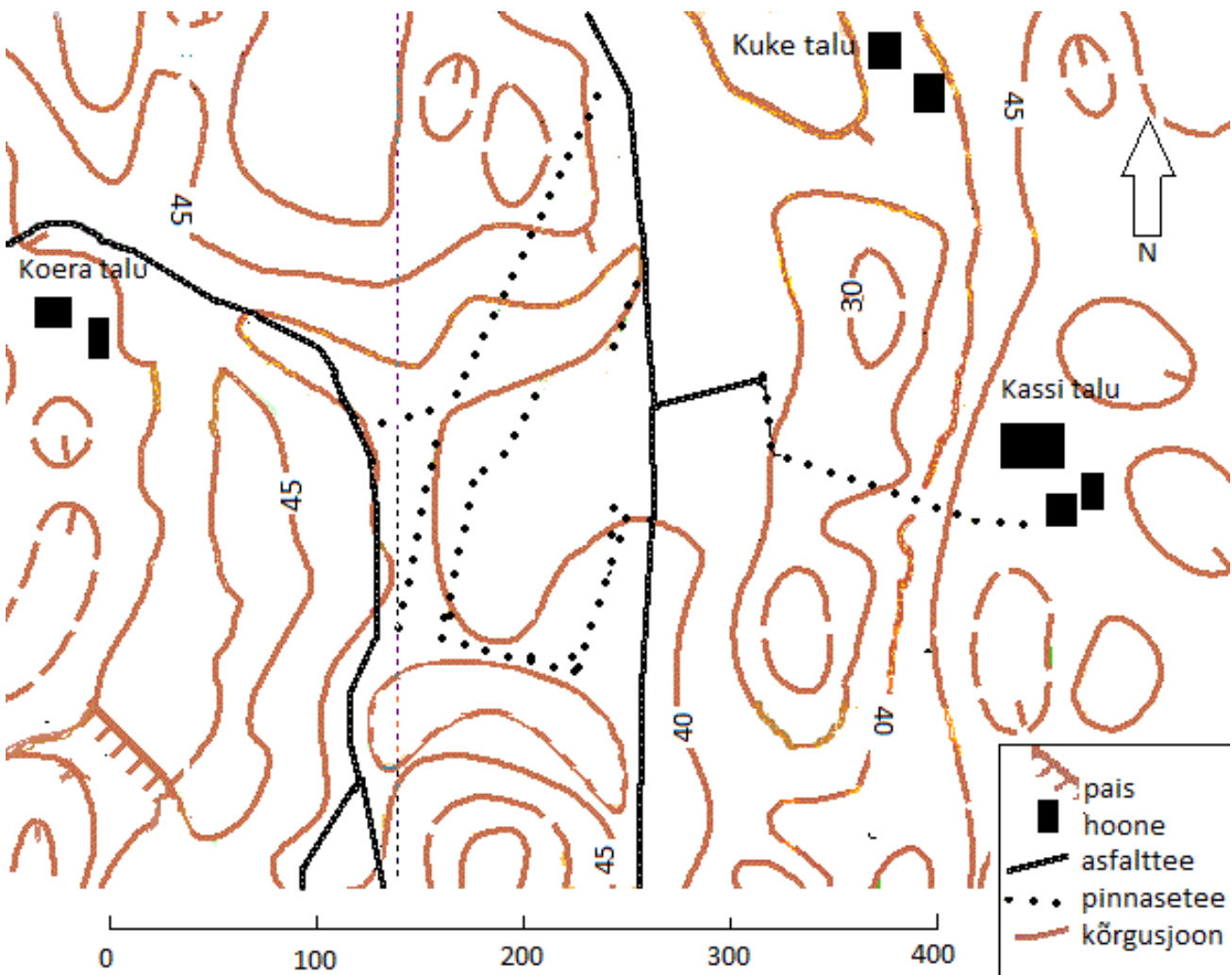
.....

11. В списке приведены хвойные деревья, которые используются у нас для озеленения. Подчеркни названия тех видов, которые растут в Эстонии и в природе. 26

Туя, сосна обыкновенная, сосна кедровая, ель европейская, псевдотсуга, лиственница, можжевельник обыкновенный, тис ягодный, пихта

12. Ответь на вопросы на основе крупномасштабной карты. 6 б

- a) Каков промежуток между горизонталями?
- b) В каком направлении, и на каком расстоянии находится хутор Kuke от хутора Коера?
.....
- c) Виден ли из хутора Kassi хутор Коера? ДА/НЕТ Обоснуй ответ.
.....
- d) Какой из трех хуторов, вероятнее всего, заброшен? Почему ты так решил?
.....
- e) Отметь на карте высшую точку буквой **A**. Какова ее высота над уровнем моря?
- f) Отметь на карте низшую точку буквой **B**.



13. Что показано на этих картах земной поверхности, сделанных в рамках программы CORINE? Выбери ответы из списка и напиши рядом с соответствующей буквой. 4 б

Города, леса, сельскохозяйственные угодья, шахты, бассейны рек, населенные пункты, болота, возвышенности

A B C D



14. Напиши под каждой фотографией название эстонского острова на котором она сделана. Ответить помогут перечисленные вперемешку факты. Припиши к названию острова номера относящихся к нему фактов. 6 б

1. Остров окружен многочисленными островками.
2. Большая часть острова занята низинным болотом.
3. В 7 км на северо-восток от острова находится метеоритный кратер Неугрунд.
4. Традиционные занятия – лов рыбы и выращивание лука.
5. 7-ой по величине остров Эстонии.
6. В населении преобладают русские старoverы,
7. По острову проходит Балтийский глент.
8. До 1944 года на острове жили шведы.
9. Женщины острова знамениты рукоделием, пением и танцами.

