

Nimi Kool

Õpetaja

Geograafiaolümpiaadi maakonnavoru küsimused gümnaasiumile

1. Turistide külastuste arv ekstreemsetesse piirkondadesse (Antarktika, Arktika) kasvab väga kiiresti. 2p

a) Miks külastab neid piirkondi aina rohkem inimesi?

.....

b) Mis piiranguid ja nõudmisi rakendatakse, et turistide mõju Antarktika loodusele oleks minimaalne? 2p

.....

c) Alaskat külastab arvukalt turiste kõikidest USA osariikidest, kuid väga vähe Kanadast. Miks ei külasta Kanada turistid Alaskat? 1p

.....

2. Loetlege valglinnastumisega kaasnevaid probleeme. 6p

Kaasnevad probleemid eeslinnas elavale lastega pere	Kaasnevad probleemid linna kui terviku funktsioneerimisele

3. Mis probleeme toob kaasa elektriautode kasutamine Eestis? 1p

.....

Miks ei saa Eestis hetkel elektriautot pidada „rohelisteks transpordivahendiks“? 1p

.....

4. Selgita, mida tähendavad (kuidas tekivad) ja kus esinevad?

4p

lahaar –

.....

maar –

.....

5. a) Tenerife saar on küll suhteliselt väike, kuid kliima erinevused on saarel siiski märgatavad. Miks? Selgita pikemalt.

3p

.....

.....

.....

.....

b) Märki Tenerife kaardile tähtedega piirkond/piirkonnad: A) mis saavad aastas kõige enam sademeid; B) kus on kõige kuivem, C) kus on kõige soojem, D) kus on kõige jahedam. Lisa ka lühike selgitus, miks see nii on.

4p

A) Saavad aastas kõige enam sademeid; sest

.....

B) Kõige kuivem on seal, sest

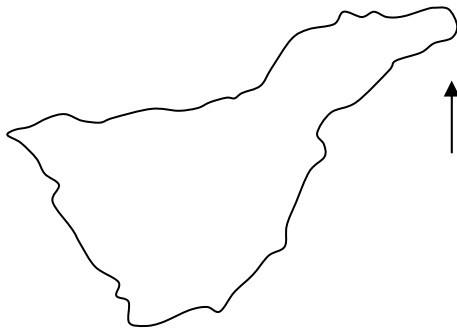
.....

C) Kõige soojem on seal, sest

.....

D) Kõige jahedam on seal, sest

.....



6. Elanike arvult on Euroopa suurim saar Suurbritannia, järgnevad Iirimaa ja Sitsiilia. Nimetage neljas saar.

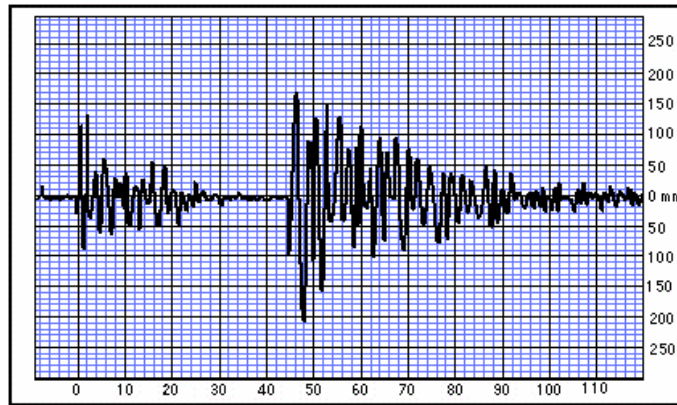
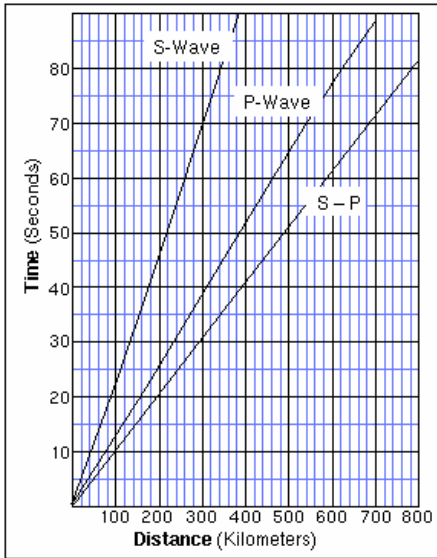
1p

.....

7. Tee seismogrammi ning piki ja ristilainete levimiskiiruse graafiku põhjal kindlaks, kui kaugel asus seisvojaam maavärina episentrist?

2p

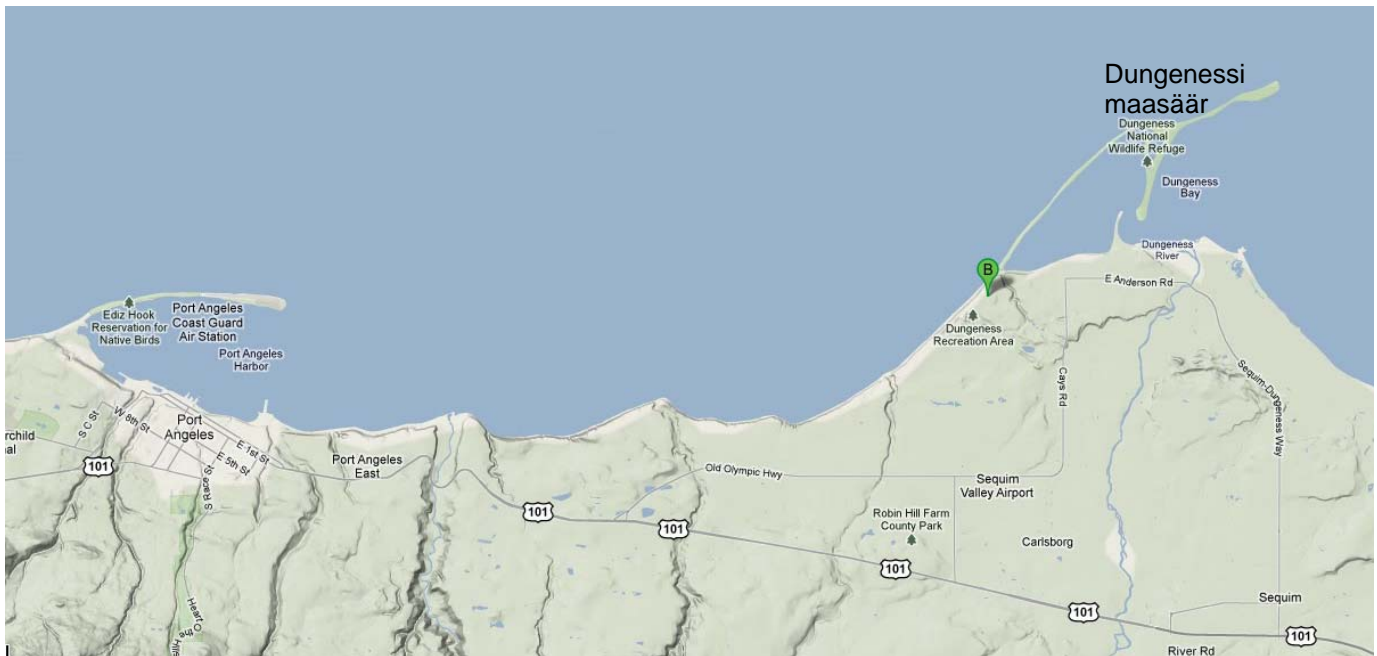
Kaugus



aeg sekundites

8. Dungenessi maasäär USA-s on üks pikimaid maailmas. Selgita, kuidas on see tekkinud. Kasuta selgituses rannikute ja rannikuprotsessidega seotud teadusmõisteid. Täienda kaarti, et see toetaks tekstilist selgitust.

3p



.....

.....

.....