

Nimi

Kool

Õpetaja

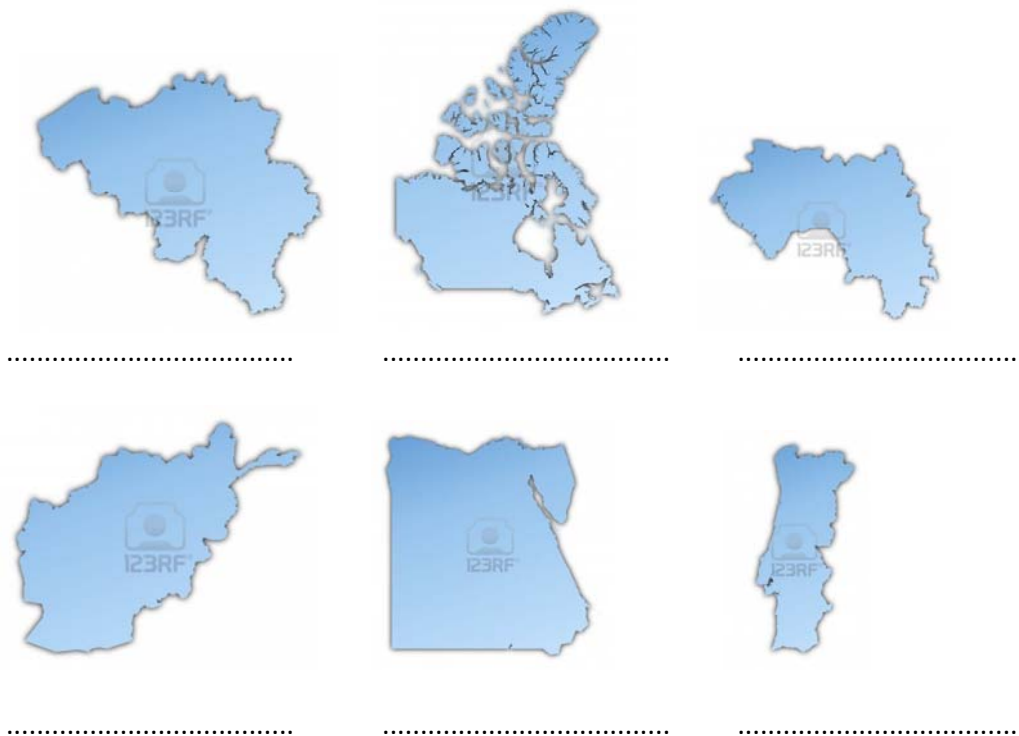
Geograafiaolümpiaadi maakonnavoru küsimused 8. klassile

1. Dolomiidi mäestik on 2009. aastast UNESCO maailmapärandi nimekirjas. 7p
- Millises Alpi mäestiku osas asuvad Dolomiidid?
- Mis on Dolomiitide kõrgeim tipp ja kui kõrge see on?
- Kui palju on see madalam Alpide kõrgeimast tipust?
- Otsusta, mis väited on selle mäestiku kohta tõesed, mis väärad.
- | | |
|--|------------|
| Mäestik on umbes 500 mln aastat vana. | tõene/väär |
| Mäestik on nime saanud prantsuse mineraloogi Deodat de Dolomieu järgi. | tõene/väär |
| Selles piirkonnas on arvukalt vulkaane. | tõene/väär |
| Mäestikus domineerivad lubjakivid. | tõene/väär |
2. Novembris toimus Guatemalas maavärin magnituudiga 7,4. 5p
- a) Eesti aja järgi toimus maavärin kell 18.35. Mis oli kohalik aeg?
- b) Kui palju on maavärin magnituudiga 6,4 nõrgem maavärinast magnituudiga 8,4? Tõmba õigele vastusele joon alla. *10x* *100x* *1000x*
- c) Kui tugevaid maavärinaid on üldse maailmas esinenud (väljenda magnituudides)?
- c) Miks esineb Guatemalas sageli tugevaid maavärinaid? Seosta selgitus konkreetsete laamade liikumisega.
-
3. See riik koosneb 7 saarest, millest 4 on asustatud. Riigil on kaks riigikeelt. Riigis pole ei jõgesid ega järvi. See on Euroopa Liidu kõige väiksem riik nii pindalalt kui rahvaarvult. 3p
- Mis riik see on? Mis on selle riigi pealinn?
- Määra pealinna geograafilised koordinaadid.
4. Mis pinnavormi on kujutatud fotol 5? 2p
- Kuidas on see pinnavorm tekkinud?.....
-
5. Juhani unistuseks oli näha oma silmaga polaarpäeva. 25. augustil sõitsid nad perega nädalaks Rovaniemisse. Kas Juhani unistus täitus? Selgita lühidalt. 2p
-
6. Vaata pilte 1.-4. lisalehel. Mis riigiga seostub pildil olev lasteraamatu või filmitegelane. 4p
1. 2. 3. 4.

7 Märgi iga kontuuri juurde, mis riigiga on tegemist. Leia igale riigile loetelust kaks iseloomulikku

tunnust. Märgi tunnuse ees olev täht õige riigi juurde nime järele.

6p



a) riik asub poolsaarel ja tal on ainult üks maismaanaaber b)riigis on palju suuri järvi ja veerikkaid jõgesid c)riigil on kolm riigikeelt-hollandi, prantsuse, saksa d)riik on endine Prantsusmaa asumaa e) riik asub kahes maailmajaos f)riigil on kaks autonoomset piirkonda Atlandi ookeanis g) riigikeel on araabia keel h)kõige pikema rannajoonega riik maailmas , i) riigi territooriumile jäävad vihmametsad j) kuningriik, kellel on neli maismaanaabrit k) riigil on lähima mereni 480 km l)riigis on kuiv lähistroopiline kliima.

8.Igas loetelus on üks liigne objekt. Tõmba see maha ja kirjuta objektidele ühine nimetaja. 4p

- Mont Blanc, Monte Rosa, Jungfrau, Zugspitze
- Altiplano, Sahara, Tiibeti, La Plata
- Ojos del Salado, Fuji, Aconcagua, Cotopaxi
- Rein, Elbe, Visla, Oder

9. Võrdle pinnamoe mõju erinevatele tegevusvaldkondadele Austrias ja Hollandis. 5p

Tegevusvaldkonnad	Austria	Holland

10. Viis Eestimaa linna asuvad samanimeliste jõgede ääres. Milliste linnade ja jõgedega on tegemist?

..... 2p

11. Vaata fotot 6 . Mis linnast on tehtud see pilt? Tõmba loetelus õigele joon alla. 2p

Gdansk, Ateena, Venezia, Dhaka, Bangkok

Kas sellist üleujutust põhjustas a) erakordselt pikk sajuperiood, b) mussoonvihmad, c) tulv

d)mägedes sulama hakanud lumi

12. Võrdle kahe linna Verhojanski ja Pontianaki kliimadiagramme. a) Too välja nende kahe linna kliima viis erinevust. 5p

Näitajad	Verhojansk	Pontianak

b) Nimeta kaks põhjust, millest on tingitud Verhojanski ja Pontianaki erinev kliima. 2p

.....

13. Mida on kujutatud samajoontega kaardil 1? 1p

.....

14. Paranda tekstis olevad vead. 5p

Pihlaka talu jääb Kopsumäest edelasse. Kopsumägi on kahe tipuga kungas, mille kõrgeim tipp on 107,2 m üle merepinna. Kopsumäe lõunaosas on nõlvad kõige järsemad. Pihlaka talu asub oru põhjas, jäädes 40 m madalamale Kopsumäe tipust, kuid olles merepinnast 87,5 m kõrgusel.

Pihlaka talu juurest on näha põhja pool asuvad Kaasiku ja Rae talud. Pihlaka talu juurest on Kaasiku talu juurde linnulennul 650 m.

Geograafiaolümpiaadi maakonnnavoor 2012/2013

8. klass

1.



2.



3.



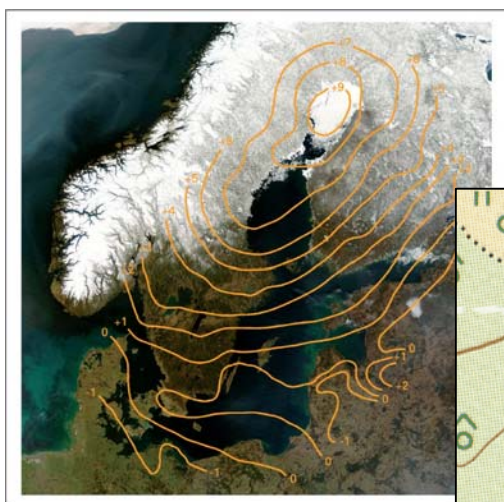
4.



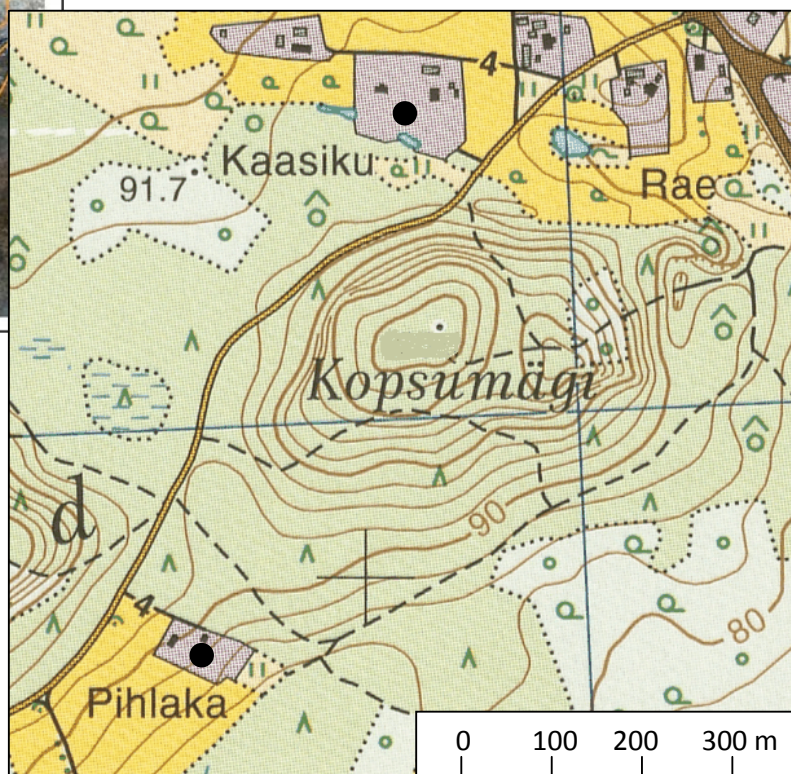
Foto 5.



Foto 6.



Kaart 1



Kaart 2