

Вопросы уездного тура олимпиады по географии для 8 класса

1. Какую вершину покорили эстонские альпинисты 13 января 2007? 3 балла

..... **Определи координаты этой вершины.**

2. Распредели слова из перечня в подходящие пары и напиши для каждой пары поясняющий заголовок. *пушта, вади, лёсс, маквис, прерия, самбо, чапараль, крик, глина, мулат* 5 баллов

3. Какие из перечисленных утверждений правильны? Исправь неверные утверждения. 4 баллов

- A. На севере Польши и Германии встречаются ледниковые формы рельефа. да/нет
- B. Материковая часть Норвегии в самом узком месте имеет ширину всего 45 km. да/нет
- C. Скандинавские горы возникли в период каледонского складкообразования. да/нет
- D. Черногория граничит с Сербией, Албанией и Боснией и Герцеговиной. да/нет

4. а) Как образовались фьорды? 5 баллов

б) Подчеркни в перечне те места, где есть фьордовые побережья.

Южное побережье Чили, побережье Адриатического моря, западное побережье Норвегии, северное побережье Исландии, южное побережье Африки, юго-западное побережье Финляндии, восточное побережье Новой Зеландии, северо-восточное побережье Австралии.

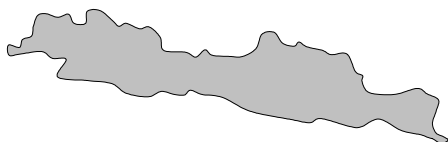
5. а) С помощью перечисленных ниже фактов, найди для каждого контура правильное название. Напиши возле каждого контура его название и номера относящихся к нему фактов. (Масштаб контуров неодинаков.) 6 баллов

1 – в умеренном поясе, 2 – активная вулканическая деятельность, 3 – между двумя большими водоемами, 4 – выращиваются каучуковые деревья, 5 – преобладает испанский язык, 6 – расположено в Альпах, 7 – расположен на берегу одноименного моря, 8 – имеет с Эстонией разницу во времени 7 часов, 9 – река Рона, 10 – порт Бальбоа, 11 – граница двух государств, 12 – говорят на яванском языке.

.....
.....

.....
.....

.....
.....



б) Какой из этих объектов самый большой по площади, какой самый маленький? 2 балла

Наибольший:

Наименьший:

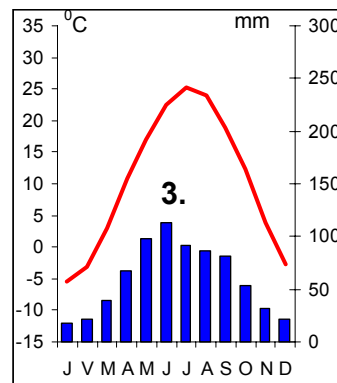
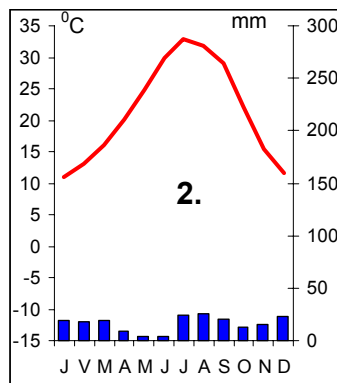
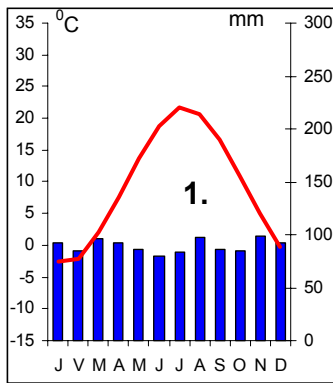
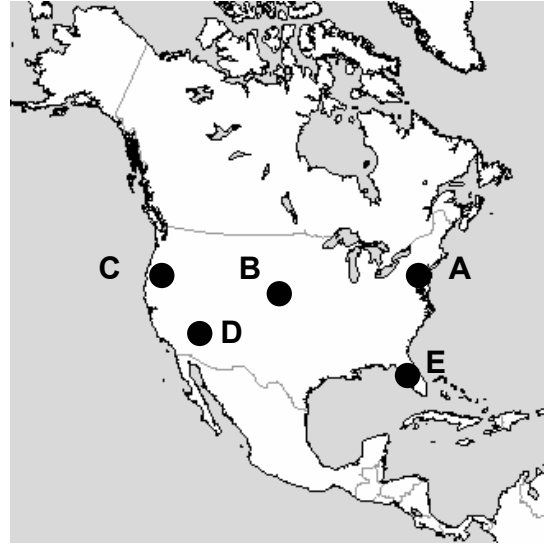
6. Какое государство, помимо Эстонии, имеет сине-черно-белый флаг? 1 балл

7. Соедини климатические диаграммы с соответствующими им точками на карте. Поясни свои решения. 6 баллов

Диаграмма 1 – точка на карте Пояснение:

Диаграмма 2 – точка на карте Пояснение:

Диаграмма 3 – точка на карте Пояснение:



8. В каком из перечисленных мест день 23 сентября самый длинный? 2 балла

Нью-Йорк, Париж, Каир, Сидней. Поясни.

.....

9. Как влияют холодное и теплое течения на климат и природу побережья в районе южного тропика? Укажи различия на примере Бразильского и Перуанского течений. 4 балла

Влияние Бразильского течения	Влияние Перуанского течения

10. Подчеркни в перечне то, что характерно для пустыни Сахара. 3 балла

Фен, нефть и природный газ, ламы, нисходящие воздушные потоки, каменный уголь, ночные заморозки, финиковые пальмы, самум, эвкалипты, берберы, западные ветры, кактусы,.

11. Почему подсечно-огневое земледелие губительно для окружающей среды?

4 балла

.....


.....

Приведи два примера государств, где применяется подсечно-огневое земледелие

.....

12. Что это за животные? Для каких стран или регионов они характерны?

4 балла



1. 2.

3. 4.

13. Какой масштаб должна иметь карта Эстонии, чтобы полностью поместиться на листе бумаги формата А4 (21x29 см)?

2 балла

14. Если бы отломилась часть шельфового ледника Ронне, то в каком направлении, вероятнее всего, стал бы дрейфовать образовавшийся айсберг. Обоснуй свой ответ.

3 балла

.....

.....

15. Соедини фотографии с соответствующими им точками на карте. Напиши, что на них изображено.

5 баллов

1. Фотография – точка на карте

Пояснение:

2. Фотография – точка на карте

Пояснение:

3. Фотография – точка на карте

Пояснение:

4. Фотография – точка на карте

Пояснение:

5. Фотография – точка на карте

Пояснение:

