

Geograafiaolümpiaadi maakonnavoru küsimused 7. klassile

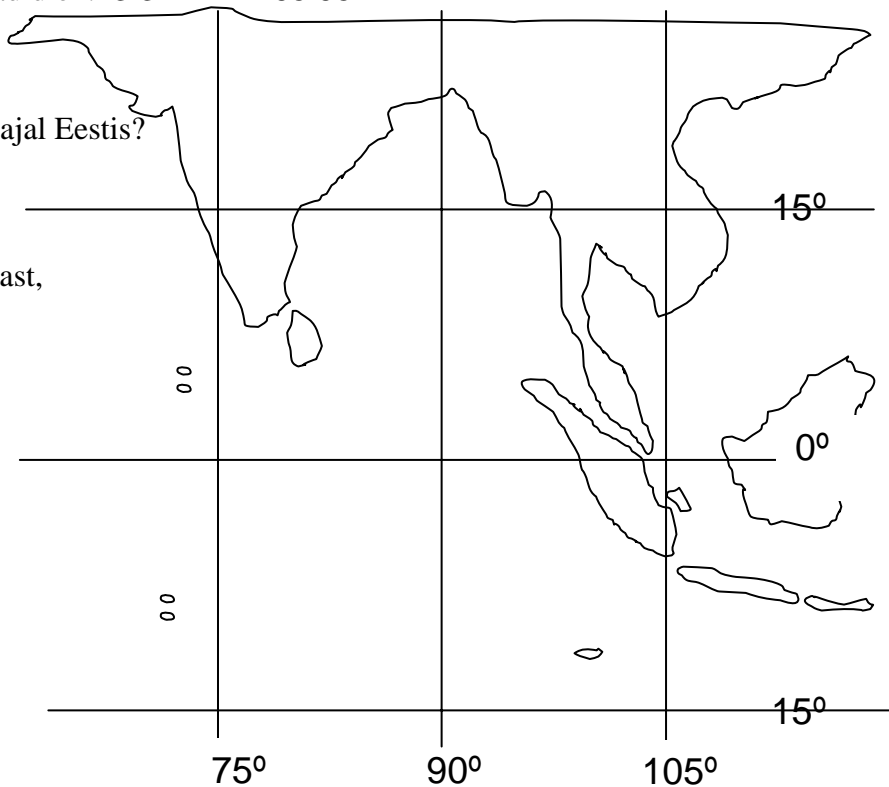
1. a) Märki võimalikult täpselt kaardile 26. detsembril toimunud Kagu-Aasia maavärina epitsenter, mille koordinaadid on: **3.31°N 95.95° E**

b) Maavärin toimus pühapäeval kohaliku aja järgi 7.58. Mis nädalapäev ja kellaaeg oli sellel ajal Eestis?

.....

c) Kasutades teadmisi laamtektoonikast, selgita miks esineb selles piirkonnas sageli maavärinaid.

.....



d) Maavärina epitsentrist levis igasse suunda hiidlaine umbes 800 km tunniirusega. Tähista kaardil piirkonnad, mis said kõige enam kannatada. Selgita, miks just need piirkonnad said kõige enam kannatada? *10 punkti*

.....

2. Võrdle Põhjamerd ja Scotia merd, mis mõlemad asuvad 60-ndatel laistel. *6 punkti*

näitaja	Põhjameri	Scotia meri
1.		
2.		
3.		
4.		
5.		
6.		

3. Kus Eestis paiknevad suuremad allikad. Selgita, miks seal?

3 punkti

.....

.....

.....

4. Millistes Eestimaa piirkondades sajab kõige rohkem? Miks?

3 punkti

.....

.....

5. a) Millised Eestimaa linnad (3) said jaanuaritormis kõige enam kannatada?

4 punkti

b) Miks just need linnad said enam kannatada?

.....

.....

6. Miks on Põltsamaa jõe toitumises suur põhjavee osatähtsus?


2 punkti

.....

.....

7. a) Paiguta joonisele õigesse kohta: nõmmemets, laanemets, looniit, aruniit, lamminiit, salumets.

6 punkti



b) Kirjuta iga koosluse kohta üks seda iseloomustav lühilause.

nõmmemets

laanemets

looniit

aruniit

lamminiit

salumets

8. Rühmita järgnevad mõisted nelja tulpa ja kirjuta igale tulpale pealkiri

4 punkti

laguun, delta, fjord, oos, estuaar, mõhn, föön, otsamoreen

9. Millised järved jäävad nelja riigi territooriumile?

2 punkti

.....

10. Nimed *Fundy* ja *Sagarmatha* tähistavad maakeral kahte kohta, mis on millegi poolest kogu maakeral "kõige". Nimeta, millega need kohad silma paistavad.

2 punkti

.....

.....

11. Mida võiks tähendada ütlus: *Kõrbe päike paneb isegi kivid kisendama.*

2 punkti

.....

.....

12. Milliste Euroopa riikide populaarseteks turismiobjektideks on nii mägironimine, karstikoopad kui rannikukuurordid.

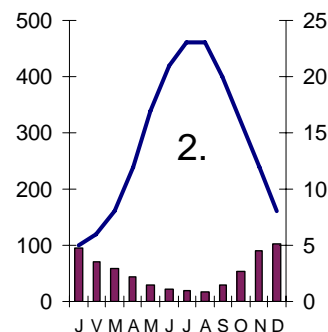
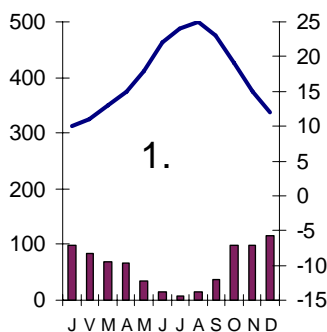
3 punkti

.....

13. a) Milline toodud kliimadiagrammidest iseloomustab Palermo, milline Istanbuli kliimat? 4 punkti

Palermo
Istanbul

b) Selgita, mille järgi otsustasid.



.....

.....

14. Kanna kontuurkaardile Kartaago, Trooja, Pompei, Konstantinoopol, Aleksandria.

2 punkti



15. Milliseid tuntud kohti on juuresolevatel pildidel kujutatud? Leia neile vastav täht eelmise ülesande kaardilt.

5 punkti

	Koht	Täht kaardil
1.		
2.		
3.		
4.		
5.		

