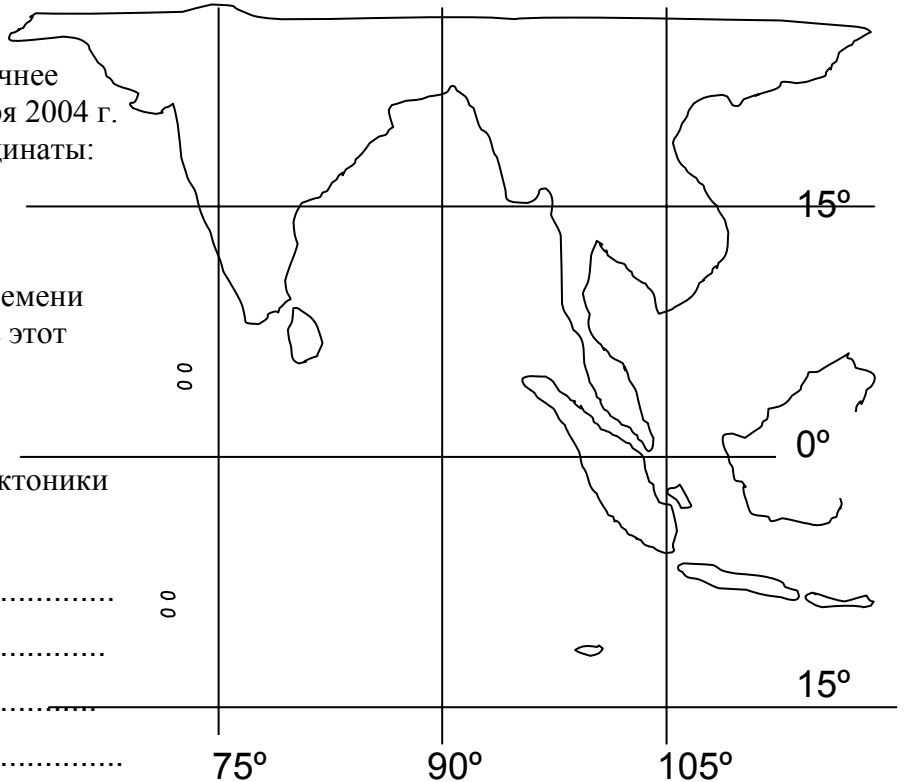


**Вопросы уездного тура олимпиады по географии для 7 класса**

1. а) Укажи на карте как можно точнее эпицентр землетрясения 26 декабря 2004 г. в Юго-Восточной Азии. Его координаты: 3,31° с.ш. 95,95° в.д.



б) Землетрясение произошло в воскресенье в 7.58 по местному времени. Какой день недели и время были в этот момент в Эстонии?

.....  
 в) Объясни, опираясь на знание тектоники плит, почему в этом районе часты землетрясения?

.....  
 .....  
 .....  
 .....  
 .....

д) Гигантские волны распространялись из эпицентра землетрясения со скоростью 800 км/час во всех направлениях. Отметь на карте территории, которые пострадали в наибольшей степени. Объясни, почему больше всего пострадали именно эти территории?

*10 баллов*

.....  
 .....

2. Сравни Северное море с морем Скоша (Скотия). Оба моря расположены в 60-ых широтах.

*6 баллов*

Показатель	Северное море	Море Скоша
1.		
2.		
3.		
4.		
5.		
6.		

3. Где в Эстонии расположены самые многоводные родники? Почему именно там?

3 балла

.....

.....

4. В каких местах в Эстонии выпадает больше всего осадков? Почему?

3 балла

.....

.....

5. а) Какие три города Эстонии больше всего пострадали от январской бури 2005 года.

.....

б) Почему пострадали именно эти города?

4 балла

.....

.....

6. Почему в питании реки Пылтсамаа большое значение имеют подземные воды?


2 балла

.....

.....

7. а) Укажи на рисунке: сосновый бор, ельник, альварный луг, суходольный луг, пойменный луг, широколиственно-хвойный лес.

6 баллов



б) Напиши короткое предложение-характеристику для каждого растительного сообщества.

Сосновый бор .....

Ельник .....

Альварный луг .....

Суходольный луг .....

Пойменный луг .....

Широколиственно-хвойный лес .....

8. Распредели термины в четыре группы в нижнем ряду таблицы и придумай для каждой группы название (в верхнем ряду таблицы).

4 балла

*лагуна, дельта, фьорд, оз, эстуарий, кам, фен, концевая морена*


9. Какие озера находятся в пределах четырех государств каждое?

2 балла

.....

10. Места с названиями Фанди и Сагарматха обладают рекордными значениями определенных показателей в мире. Чем они знамениты?

2 балла

.....

.....

.....

11. Что означает выражение: *Пустынное солнце заставляет кричать даже камни.*

2 балла

.....

.....

12. Какие европейские страны привлекают туристов одновременно горными маршрутами, карстовыми пещерами и морскими курортами.

3 балла

.....

13. а) Которая из климатических диаграмм характеризует климат Палермо, которая климат Стамбула?

4 балла

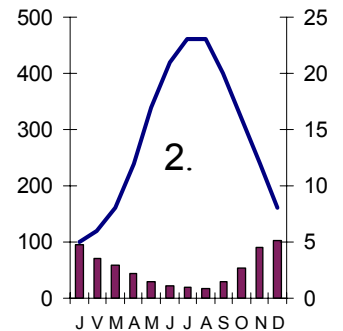
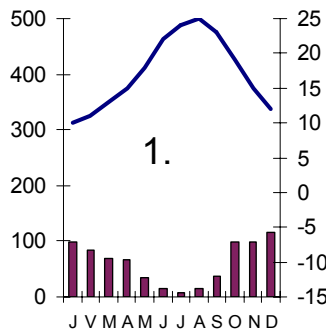
.....

.....

б) Объясни.

.....

.....



14. Укажи на контурной карте Карфаген, Трою, Помпеи, Константинополь, Александрию.

2 баллов



15. Какие известные места показаны на этих картинках? Найди для них соответствующую букву на карте.

5 баллов

	Место	Буква на карте
1.		
2.		
3.		
4.		
5.		

