

### Geograafiaolümpiaadi maakonnavoru küsimused 7. klassile

1. Võrdle Läänemerd ja Põhjamerd, too välja peamised erinevused.

5 punkti

Näitaja	Läänemeri	Põhjameri

2. Vaata Läänemere jääkatte kaarti Eesti atlasel lk. 9. Mis piirkonnad Läänemerest külmuvad isegi pehmel talvel? Miks?

3 punkti

.....

.....

.....

3. Kus Eestis leidub arvukalt suuremaid ja veerohkemaid allikaid. Selgita, miks just seal?

3 punkti

Leidub ..... sest .....

.....

4. Otsusta atlase abil, kas järgmised väited on tõesed või väärad.

5 punkti

- A. Puhja vallas on eestlaste osatähtsus alla 50%. tõene/väär
- B. Põhja-Eesti paekallas paljandub Kõpu poolsaarel. tõene/väär
- C. Kõige rohkem sademeid saab aastas Lääne-Eesti rannikuala. tõene/väär
- D. Koiva jõgi on Eesti piirijõeks ligi 20 km pikkuselt. tõene/väär
- E. Kolmes Lõuna-Eesti maakonnas leidub lubjakivi, mida kasutatakse ehituses. tõene/väär

5. Rühmita järgnevad mõisted nelja tulpa ja kirjuta igale tulpale pealkiri.

4 punkti

*paekivi, juga, pilvisus, baromeeter, soot, tuule kiirus, põlevkivi, anemomeeter*


6. Nimeta Pärnu maakonnas leiduvaid taastuvaid ja taastamatuid loodusvarasid.

4 punkti

Taastuvad loodusvarad: .....

Taastumatud loodusvarad: .....

7. a) Millised loetletud kivimitest paljanduvad kaardil tähistatud kohtades? 4 punkti

*lubjakivi, liivakivi, graniit,*

A .....

B .....

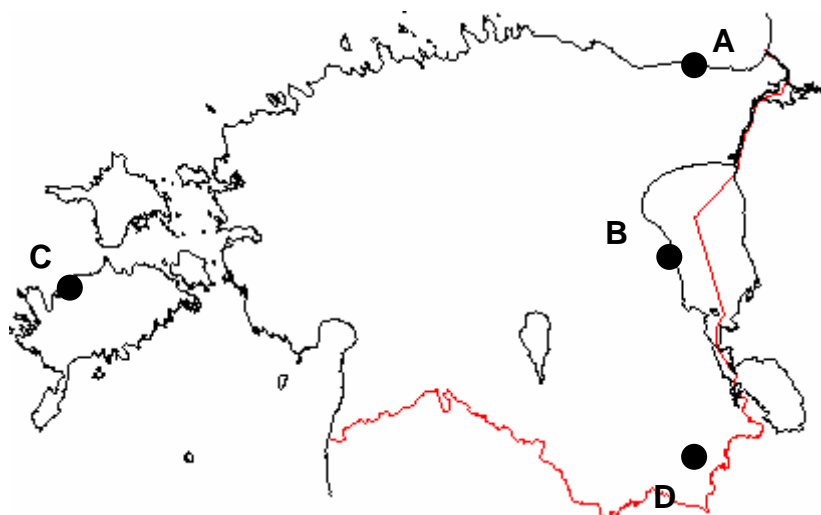
C .....

D .....

Põhjenda. ....

.....

.....



8. Mis maakonnad on a) kõige rohkem soostunud, b) mis kõige vähem. Põhjenda. 4 punkti

a) ..... sest .....

.....

b) .....

b) Miks on sood looduses tähtsad? ..... 2 punkti

.....

9. a) Vii kokku järve kontuur õige nimega juuresolevast loetelust. Selgita lühidalt, miks on see järv sellise kujuga? 4 punkti

*Endla järv, Ülemiste, Kuremaa, Mullutu Suurlaht, Pangodi*

A. ....

B. ....

b) Miks Kagu-Eestis on palju järvi, kuid Lääne-Eestis vähe?

..... 2 punkti

.....

10. Milline nimetatud kolmest kohast asub kõige kaugemal põhjas? Mille alusel otsustasid? 2 punkti

*Wrangeli saar, Franz Josephi maa, Devoni saar*

.....

11. Leia Hispaania kõige lõuna- ja läänepoolseim punkt (mandril) ja määra selle laius- või pikkuskraad.

Lõunapoolseim:..... läänepoolseim ..... 2 punkti

12. Kus asub Eestile lähim tegutsev vulkaan? 2 punkti


Nimi: ..... Riik .....

13. Kirjelda täpselt, kus asub ja mis riigile kuuluvad Galápagose saared? 2 punkti

.....

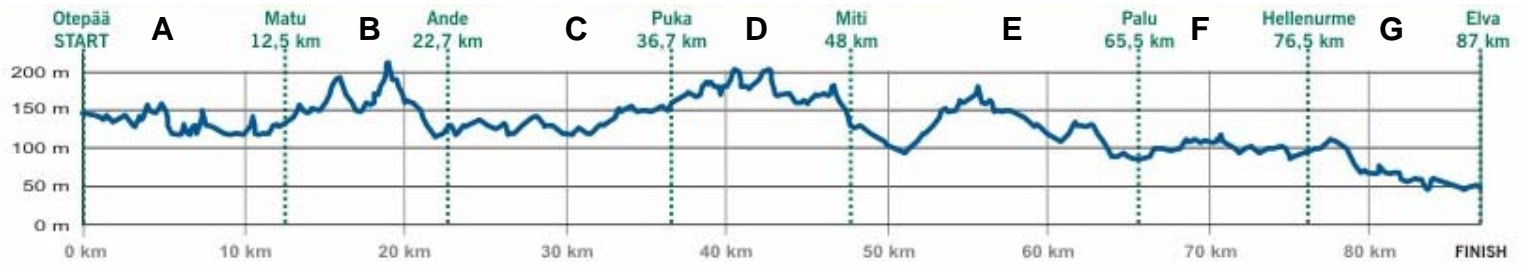
Mille poolest on need saared tuntud? .....

.....



14. Joonisel on kujutatud 2006. aasta Tartu rattamaratoni raja profiili.

4 punkti



- a) Millisel raja lõigul tuli ratturitel sõita valdavalt ülesmäge? .....
- b) Milline raja lõik oli kõige tasasemal maastikul? .....
- c) Kus tuli läbi teha kõige järsemad pikad (üle 1 km) tõusud ja laskumised? .....
- d) Millisel raja lõigul said ratturid sõita valdavalt allamäge? .....

15. Vii kokku pilt ja koht kaardil. Mida on fotol kujutatud?

5 punkti

- Foto A on kaardil kohast ....., millel on .....
- Foto Bon kaardil kohast ....., millel on .....
- Foto Con kaardil kohast ....., millel on .....
- Foto Don kaardil kohast ....., millel on .....
- Foto Eon kaardil kohast ....., millel on .....

