

Вопросы уездного тура олимпиады по географии для 8 класса

1. Какие три города Эстонии больше всего пострадали от январской бури 2005 года. Почему пострадали именно эти города? 4 балла

.....

.....

.....

2. Почему в питании реки Пыльтсамаа большое значение имеют подземные воды? 2 балла

.....

3. Что означает выражение: *Пустынное солнце заставляет кричать даже камни.* 2 балла

.....

.....

4. Объясни коротко, как возникла изображенная на фотографиях форма рельефа? 2 балла

.....

.....

.....

.....

.....



5. Чем сходны между собой озеро Байкал в Сибири, озеро Танганьика в Восточной Африке и Каспийское море в Средней Азии? 2 балла

.....

.....

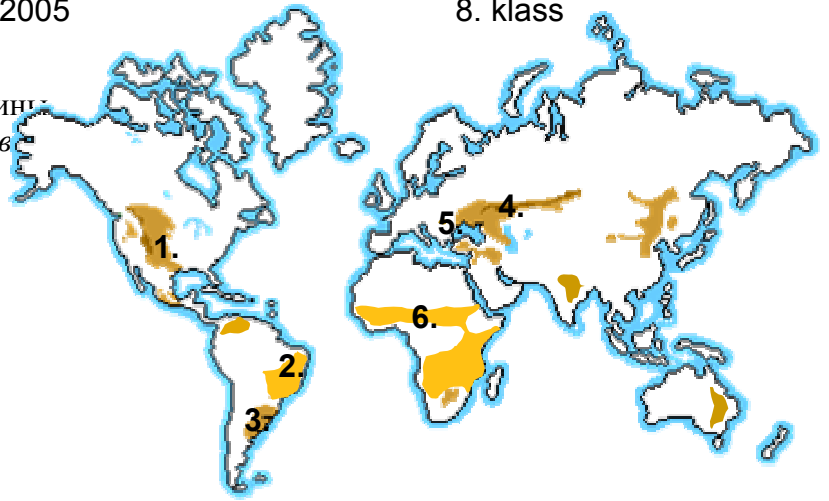
6. Укажи основные причины нехватки сельскохозяйственных (пахотных) земель в перечисленных в таблице странах. 4 балла

Страна	Причины
Объединенные Арабские Эмираты	
Монголия	
ДР Конго	
Исландия	

7. Объясни значение слов в таблице и укажи для каких природных зон характерны эти явления. Приведи по одному примеру мест, где они встречаются. 6 баллов

Слово	Значение	Природная зона
такыр		
вади		
вечная мерзлота		

8. а) Как называются травянистые равнины в отмеченных на карте местах? 6 баллов



1.
2.
3.
4.
5.
6.

б) Чем отличаются друг от друга травянистые равнины умеренного и жаркого поясов? 3 балла (в таблице)

в) Какие из перечисленных трав характерны для травянистых равнин умеренного и какие для жаркого пояса? лапа кенгуру (анигозантус), баобаб, слоновая трава, акация, бородач, трава бизонов, полынь, хикори 3 балла

	умеренного пояса	жаркого пояса
б) разница		
в) трава		

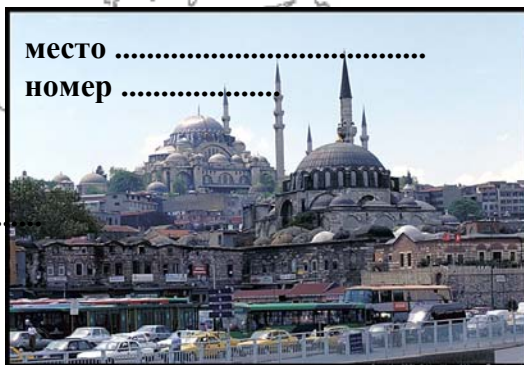
г) Почему в степных почвах образуется больше гумуса, чем в почвах дождевых лесов? 3 б

.....



9. В каких местах сделаны эти фотографии? Соедини фотографию с номером на карте. 5 баллов

место
 номер



место
 номер



место
 номер

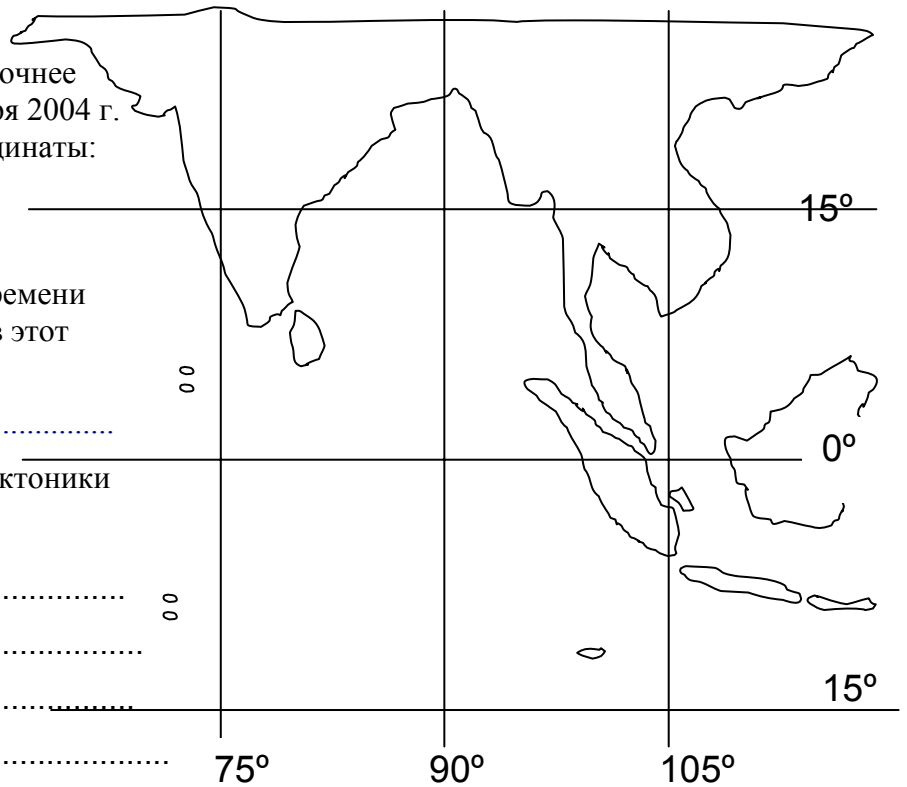


место
 номер



место
 номер

10. а) Укажи на карте как можно точнее эпицентр землетрясения 26 декабря 2004 г. в Юго-Восточной Азии. Его координаты: 3,31° с.ш. 95,95° в.д.



б) Землетрясение произошло в воскресенье в 7.58 по местному времени. Какой день недели и время были в этот момент в Эстонии?

.....

в) Объясни, опираясь на знание тектоники плит, почему в этом районе часты землетрясения?

.....

.....

.....

.....

.....

.....

.....

д) Гигантские волны распространялись из эпицентра землетрясения со скоростью 800 км/час во всех направлениях. Отметь на карте территории, которые пострадали в наибольшей степени. Объясни, почему больше всего пострадали именно эти территории? *6 баллов*

.....

.....

11. Какие озера находятся в пределах трех государств каждое? *3 балла*

.....

12. Какие европейские страны привлекают туристов одновременно горными маршрутами, карстовыми пещерами и морскими курортами? *3 балла*

.....

13. Что означают слова самум, хамсин, афган? *2 балла*

.....

14. Почему во многих больших городах в последние десятилетия стали разрушаться памятники и фасады домов, хотя прежде они стояли без изменения столетиями. *2 балла*

.....

15. От каких стихийных бедствий чаще всего страдают жители Нового Орлеана в штате Луизиана США? *2 балла*

.....