

**Geograafiaolümpiaadi maakonnavoru küsimused 8. klassile**

**1. Millise mäetipu vallutasid eestlased 13. jaanuaril 2007?** ..... 3 punkti

**Määra selle tipu koordinaadid.** .....

**2. Jaota toodud mõistd sobivatesse paaridesse ja kirjuta igale paarile selgitav pealkiri.** 5 punkti

*pusta, vadi, löss, makja, preeria, sambo, chaparral, kriik, savi, mulatt,*

.....

.....

.....

.....

.....

**3. Millised järgmistest väidetest on õiged . Paranda valed väited õigeks.** 4 punkti

- A. Poola ja Saksamaa põhjaosas leidub mandrijää kujundatud pinnavorme. tõene/väär
- B. Norra maismaaosa on kõige kitsamas kohas vaid 45 km lai. tõene/väär
- C. Skandinaavia mäestik on tekkinud kaledoonia kurrutuse ajal. tõene/väär
- D. Montenegro naaberriikideks on Serbia, Albaania ning Bosnia ja Hertsegoviina tõene/väär

**4. a) Kuidas on tekkinud fjordid?** ..... 5 punkti

.....

.....

**b) Tõmba joon alla neile järgnevalt loetletud kohtadele, kus on fjordrannikud?**

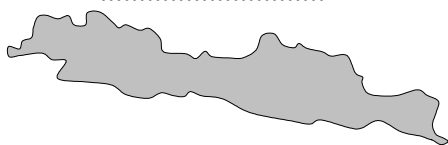
*Tšiili lõunaosa, Aadria mere ranik, Norra läänerannik, Islandi põhjarannik, Aafrika lõunarannik, Soome edelarannik, Uus-Meremaa idaosa, Austraalia kirderannik*

**5. a) Leia igale kontuurile toodud faktide abil õiged nimed.** Märki nimed ja faktid (numbritega) õige kontuuri juurde. (Kontuurid on erinevates mõõtkavades). 6 punkti

- 1. jääb parasvöötmesse,      2. aktiivne vulkaaniline tegevus,      3. paikneb kahte suure veekogu vahel,
- 4. kasvatatakse kautšukipuud,      5. räägitakse valdavalt hispaania keelt,
- 6. Alpi mäestik,      7. samanimelise mere ääres,      8. ajavahe Eestiga 7 tundi,
- 9. Rhône jõgi, 10. Balboa sadam,      11. kahe riigi piiriks, 12. räägitakse jaava keelt

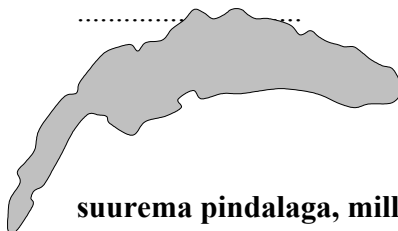
.....

.....



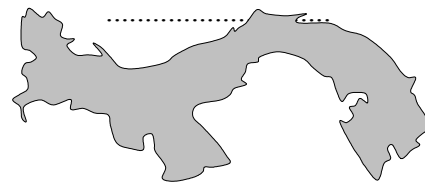
.....

.....



.....

.....



**b) Milline neist objektidest on kõige suurema pindalaga, milline on väikseim?** 2 punkti

Suurim .....

väikseim .....

6. Millise riigi lipp on ainsana samuti sini-must-valge nagu Eestil? ..... 1 punkt

7. Vii kokku toodud kliimadiagrammid õige kohaga kaardil. Põhjenda lühidalt, miks nii otsustasid. 6 punkti

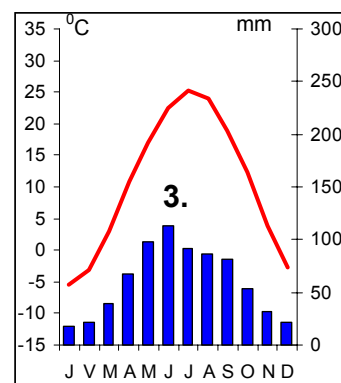
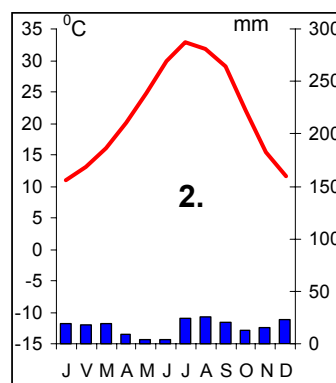
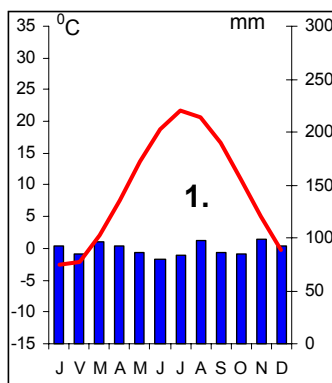
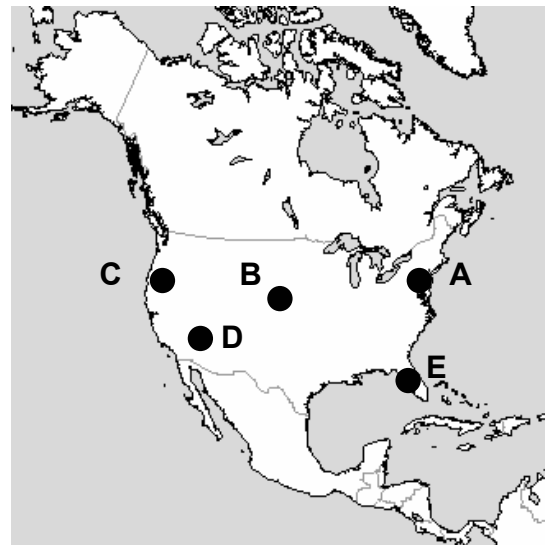
1. kliimadiagramm – koht kaardil ..... põhjendus

.....

2. kliimadiagramm – koht kaardil ..... põhjendus

.....

3. kliimadiagramm – koht kaardil ..... põhjendus



8. On 23. september. Millises järgmistest kohtadest on kõige pikem päev? New York, Pariis, Kairo, Sydney? Põhjenda.

2 punkti

.....

9. Selgita Brasiilia ja Peruu hoovuse näitel sooja ja külma hoovuse erinevat mõju ranniku kliimale ja loodusele lõunapöörilise piirkonnas.

4 punkti

Brasiilia hoovuse mõju	Peruu hoovuse mõju

10. Millised loetletud mõisted ja väited iseloomustavad Sahara kõrbe?

3 punkti

Tõmba neile joon alla. fõön, leidub naftat ja maagaasi, elutsevad laamad, laskuvad õhuvoolud, leidub kivisütt, öökülm, datlipalmid, samuum, eukalüptid, berberid, läänetuuled, kaktused,

11. a) Miks alepõllundus on keskkonnaaenuulik?


4 punkti

.....  
 .....

b) Too kaks näidet riikidest, kus tegeletakse alepõllundusega. ....

12. Mis loomadega on tegemist? Millistele piirkondadele on need loomad iseloomulikud?

4 punkti



1. .... 2. ....

3. .... 4. ....

13. Missugune peab olema kaardi mõõtka, et Eesti mahuks täielikult servast servani A4 formaadis (21x29 cm) lehele? .....

2 punkti

14. Kui Ronne šelfiliustikust murduks lahti suur jäälahmakas, siis mis suunas hakkaks tekkinud jäämägi tõenäoliselt liikuma. Põhjenda.

3 punkti

.....  
 .....

15. Vii kokku pildid ja kohad kaardil. Lisa, millega on tegemist.

5 punkti

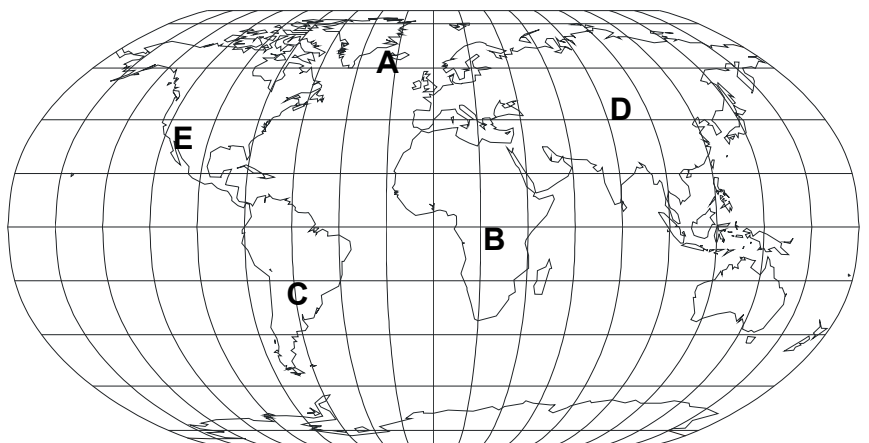
Pilt 1, on kaardil kohas .....

Pilt 2, on kaardil kohas .....

Pilt 3, on kaardil kohas .....

Pilt 4, on kaardil kohas .....

Pilt 5, on kaardil kohas .....



8. klassi pildid (küsimus 15.)

