

Geograafiaolümpiaadi maakonnavoru küsimused 9. klassile

1. Kuidas mõjutas 2005. aasta jaanuaritorm Läänemerd?

3 punkti

.....

.....

2. Klassifitseeri järgmised ilmastikunähtused ja kirjuta igale jaotusele pealkiri? Igasse tulpa võib sattuda eri arv nähtusi.

4 punkti

tromb, härmatis, miraaž, jäide, hall, virmalised, kaste, pagi, orkaan, vikerkaar, äike

3. Selgita kliima soojenemise mõju Eesti siseveekogudele.

4 punkti

- a)
- b)
- c)
- d)

4. Selgita triivhoovuste, äravooluhoovuste ja tihedushoovuste erinevat tekkemehhanismi ja too igäihe kohta üks näide.

6 punkti

triivhoovused

.....

äravooluhoovused

.....

tihedushoovused

.....

5. Kuidas on tekkinud Kura maasäär?

2 punkti

.....

.....

Kuidas nimetatakse veekogu tüüpi, mis on tekkinud maasääre ja maa vahele. 1 punkt

Mis tähtsus on Kura maasäärel Leedu rannikupiirkonna majandusele?

3 punkti

- a) b)
- c)

6. Mitmete riikide alal eksisteerivad keskvalitsusest *de jure* või *de facto* sõltumatud riigid või territooriumid. Mõni on iseseisvumas *de jure* 2006. aastal. Märki need piirkonnad kaardile (viirutuse ja numbriga).



Piirkonnad

1.
2.
3.
4.
5.
6.
7.
8.

8 punkti

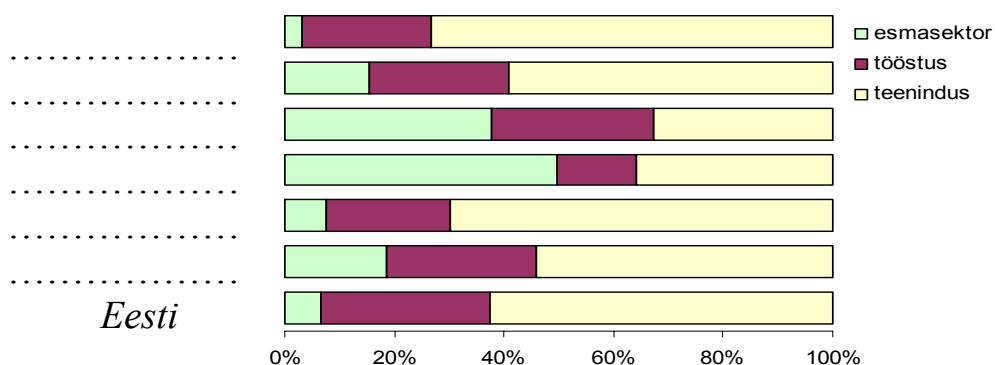
7. Millistel soome-ugri rahvastel on Venemaal oma vabariik?

3 punkti

.....

8. Diagrammil on kujutatud riigi tööhõivet eri majandussektorites mõnedes Euroopa riikides. Vii kokku riigi nimi ja diagrammi tulp. *Taani, Läti, Leedu, Island, Moldova ja Rumeenia*

3 punkti



9. Mis logodega on tegu?

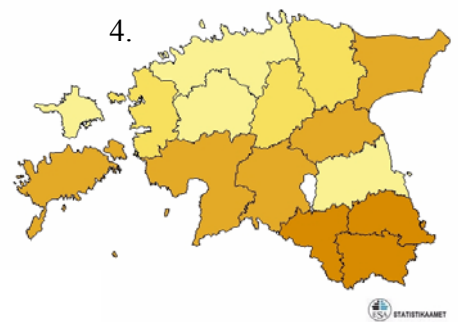
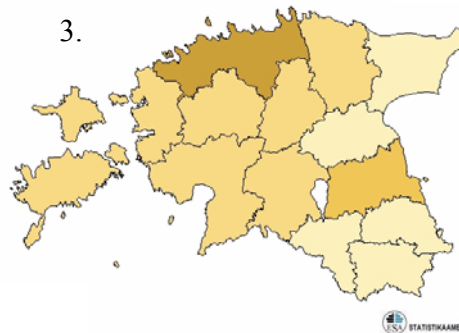
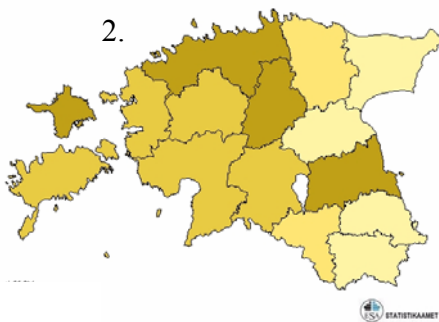
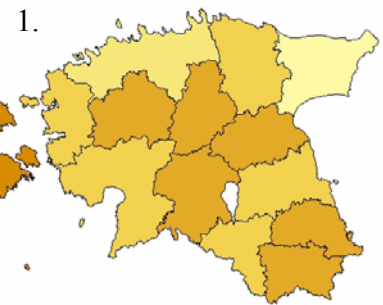
3 punkti



10. Mida on kujutatud neljal temaatilisel kaardil? Tee pakutud variantide hulgast õige valik ja vii kokku kaardiga. Mida tumedam värv, seda suurem näitaja väärtus.

4 punkti

- A. 65-aastaste ja vanemate inimeste osatähtsus rahvastikus maakonniti
- B. Keskmine brutopalk maakondades.
- C. Tööhõive määr maakondades.
- D. Eestlaste osatähtsus rahvastikus maakonniti.
- E. Laste (0-14 a) osatähtsus rahvastikus
- F. Asustustihedus maakondades



11. Vali üks kaart ja selgita selle abil regionaalsete erinevuste põhjusi.

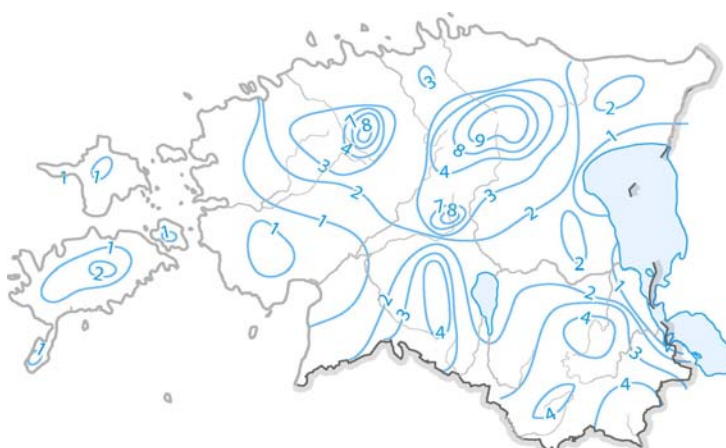
2 punkti

.....

.....

12. Selgita kaardi abil põhjavee toitumise intensiivsuse erinevusi Eestis.

4 punkti



— põhjavee toitumise intensiivsuse isojoon (l/sek km²)

.....

.....

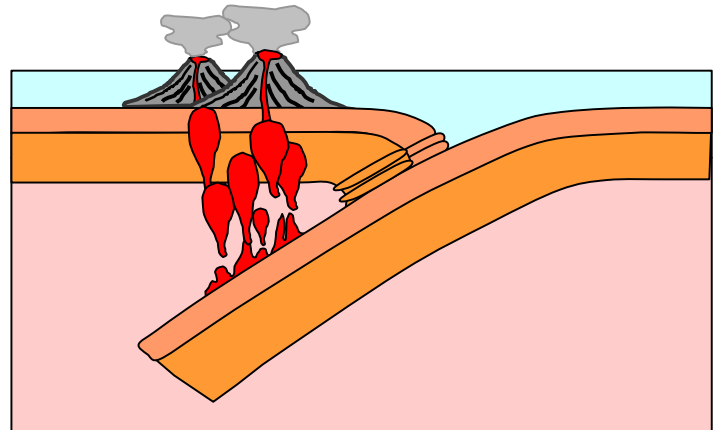
.....

.....

.....


13. Pane skeemile korrektne pealkiri. Lisa puuduvad nooled ja selgitused. 4 punkti

.....
.....
.....



14. Millistest pealinnadest on tehtud juuresolevad fotod?

5 punkti



15. Milline on Türgi tähtsus Euroopa Liidule, vältimaks tulevikus Venemaa-Ukraina gaasitüliga kaasnenud probleeme Euroopa Liidu maade energiavarustuses? 3 punkti

.....
.....