

## Geograafiaolümpiaadi maakonnavoore küsimused 9. klassile

1. Millised kohad maailmas on nimetatud Eestist pärit maadevastajate järgi?

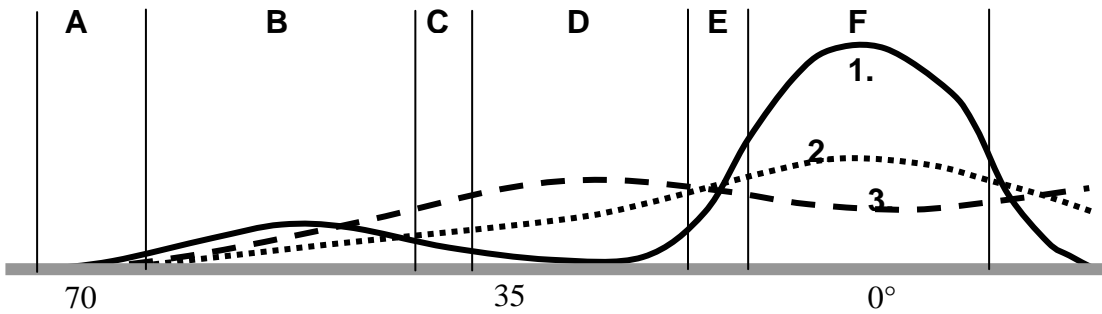
3 punkti

.....

.....

2. Joonisel on kujutatud temperatuuri, sademete hulga ja aurumise muutusi erinevates loodusvööndites (tähistatud tähtedega).

6 punkti



a) Millise numbriga on joonisel tähistatud

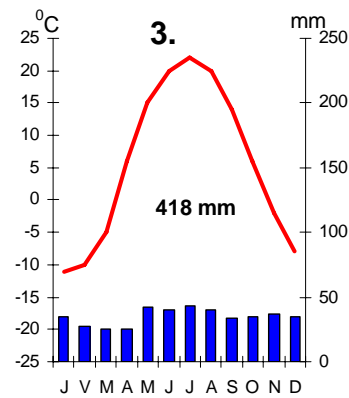
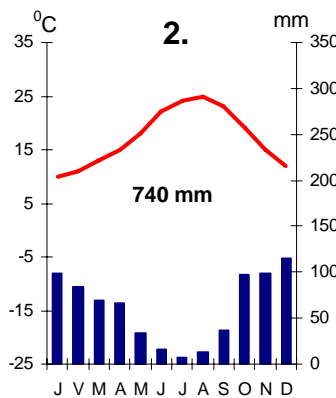
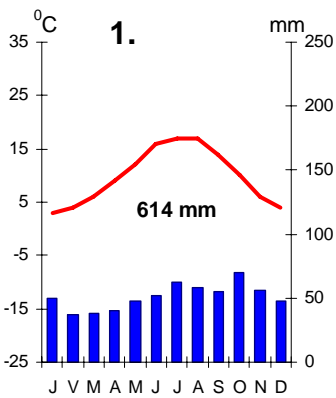
temperatuur ....., sademed ....., aurumine .....

b) Millised loodusvööndid on kujunenud sellistes tingimustes ja on joonisel tähistatud tähtedega

A. .... C. .... E. ....

c) Milliseid kliimavöötmeeid iseloomustavad juuresolevad kliimadiagrammid? Põhjenda.

3 punkti



1. ....
2. ....
3. ....

3. Millises järgnevalt loetletud kohtadest on 22. detsembril kõige lühem päev? Põhjenda.

3 punkt

*Auckland, Suva, Toronto, Pariis*

4. Miks on Ruhnu vanast puukirikust pärit skulptuurid Läti ajaloomuuseumis Riias, aga mitte näiteks Eesti Rahvamuuseumis? .....

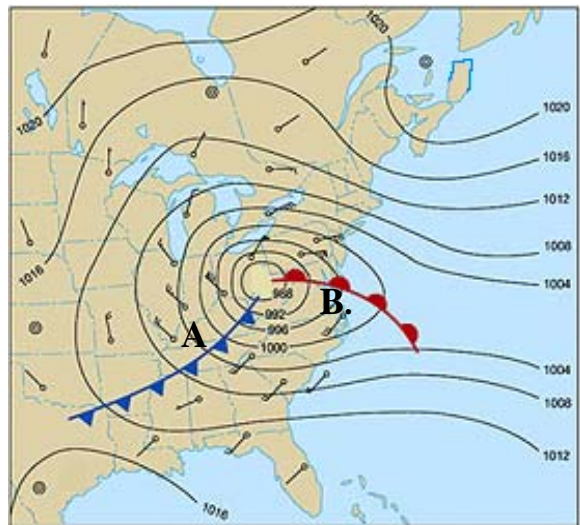
3 punkti

.....

5. Millise ajastu kivimid avanevad Põhja-Lätis? ..... 2 punkti

6. Märgi kaardile õigesse kohta 5 punkti

- kõrg- või madalrõhuala.
- Kirjuta juurde soe ja külm front.
- Iseloomusta ilma kohas A ja kohas B talvel



	Koht A	Koht B
Temperatuuri muutus		
Pilvisus, sademed		
Tuule suund		
Õhurõhu muutus		

7. a) Nimeta põhjused, miks tekkis 2005. aasta augustis New Orleansis nii katastroofiline üleujutus. .... 5 punkti

b) Mis pinnavormil asub New Orleans? .....

c) Millistes Euroopa miljonilinnades võivad tekkida samalaadsed kahjustused? .....

8. Eestis püütakse kala Atlandiookeanist, Läänemere avamere ja rannikumere osadest, sisevetest ja kalakasvatustest. 6 punkti

a) Otsusta toodud püügimahtude põhjal, milline arv ühe või teise piirkonna väljapüüki iseloomustab? Paiguta arvud tabelisse. 428; 16 538; 7 857; 2 400; 71 903;

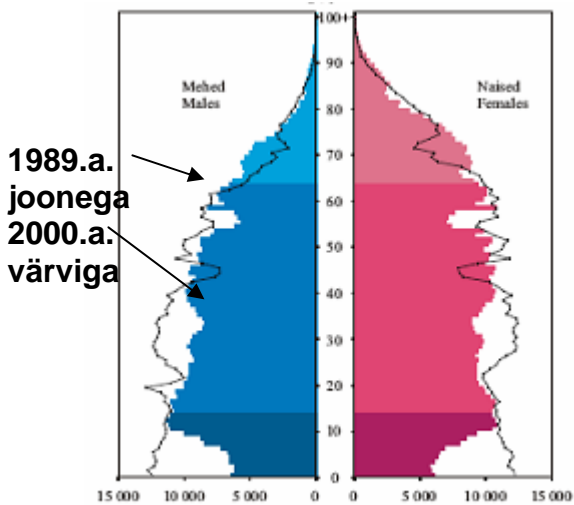
Püügipiirkond	Väljapüük 2005. aastal tonnides
Atlandi ookean	
Läänemeri: rannikumeri	
avameri	
Siseveed	
Kalakasvatused	

b) Viimastel aastatel on püügimahud märgatavalt vähenenud, vaid ühes sektoris on olnud suurenemine. Millises? .....

c) Kuidas reguleeritakse kalapüüki maailmameres, et vältida üleüüki ning tagada kalavarude taastumine. ....

9. a) Milline on suurim probleem Leedu uue tuumajaama rajamisel? 3 punkti

b) Millised 2 riiki on eriti huvitatud selle rajamisest? Miks? .....



1989.a. joonega  
2000.a. värviga

10. Iseloomusta joonise põhjal, millised muutused on toimunud Eesti rahvastiku soolis-vanuselises koosseisus? Too välja ka muutuste põhjused. *3 punkti*

.....

.....

.....

.....

.....

.....

11. Porkuni järv jäi kuivaks 2006. aasta sügisel ja täitus veega alles 2007. aasta jaanuaris. Jõgedel algas veetaseme langus suvel ja veetase tõusis sügisel. Miks Porkuni järves toimusid need protsessid sellise hilineemisega? *2 punkti*

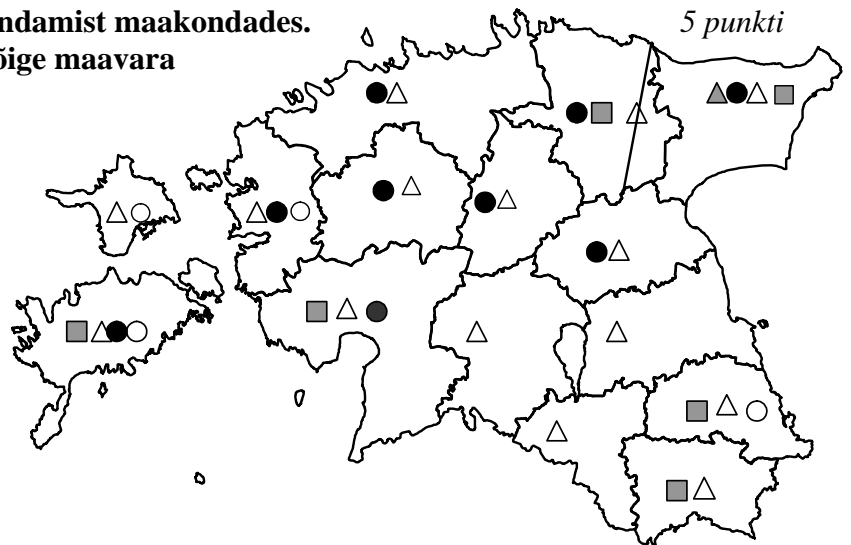
.....

.....

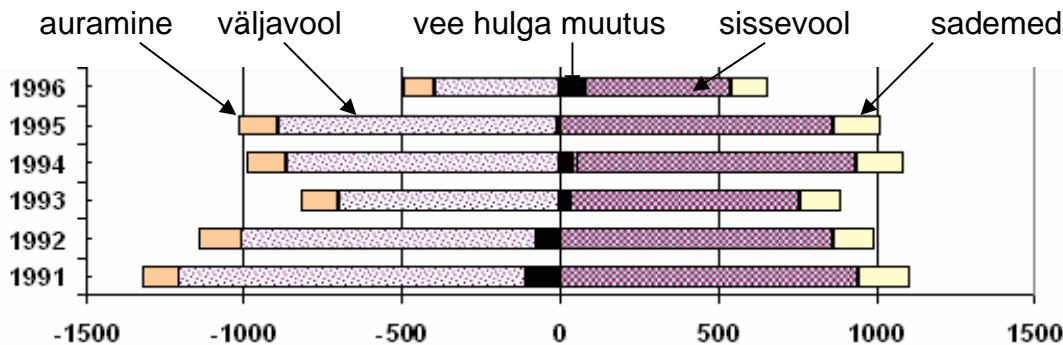
12. Kaardil on kujutatud maavarade kaevandamist maakondades. Uuri kaarti ja märgi leppemärkide juurde õige maavara nimetus.

*5 punkti*

- .....
- .....
- ▲ .....
- △ .....
- .....



13. Võrdle joonise abil 1996. ja 1991. aasta Võrtsjärve veebilanssi. *4 punkti*




1991.	1996

14. Jaota toodud pildid Läti ja Leedu vahel.

4 punkti

Läti pildid..... Leedu pildid.....



8.

