

Geograafiaolümpiaadi maakonnavoru küsimused 9. klassile

1. Iseloomusta rahvastiku paiknemist ja tihedust Rapla maakonnas. Too välja taolise paiknemise põhjused.

..... 3 punkti

.....

.....

2. Joonistel on kujutatud keskpäevast päikese kõrgust horisondil sügisel pööripäeval neljas eri kohas. Tee kohtade loetelust õige valik ja vii see kokku õige pildiga. 4 punkti



.....

3. a) Kui palju erineb kohalik päikeseaeg Narvas ja Kuressaares? 3 punkti

b) Millise meridiaani järgi arvestatakse vööndiaega Eestis?

c) Kas Eestis on kohalik päikeseaeg vööndiajast ees või taga?

4. Rühmita toodud mõisted võrdselt nelja loodusvööndi vahel. Kirjuta tabeli esimesse veergu loodusvööndi nimi. 6 punkti

saksauul, iglu, baobab, kajak, saamid, masai, igikelts, termiidid, poro, soolak, velviitšia, nunatak

loodusvöönd				
mõisted				

5. Ühes loodusvööndis kasvavad omapäraseid nn seelikuga kuused. Mis loodusvööndile on need iseloomulikud ja miks on nad sellise kujuga. 2 punkti

.....

.....

6. Mis on altiplano? 3 punkti

Mis riikides (nimeta neli) selliseid leidub?

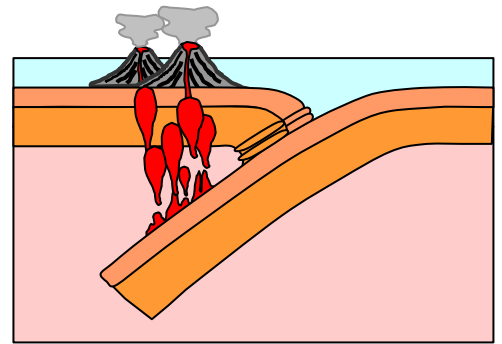
.....

7. a) Mida on juuresoleval joonisel kujutatud?

4 punkti

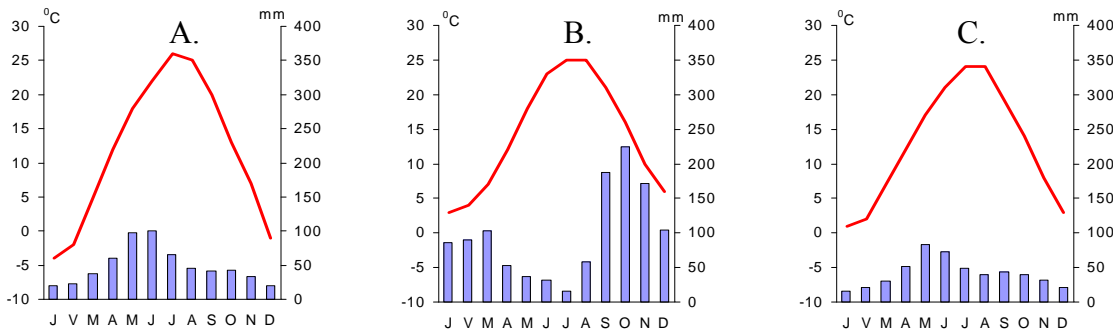
b) Too üks näide, kus selline protsess toimub?

c) Nimeta geoloogilisi protsesse, mis sellele piirkonnale iseloomulikud on.



8. Vii kokku kliimadiagrammid loetelus toodud kohtadega. Selgita lühidalt, mille põhjal tegid valiku.

6 punkti



Koht Tbilisi kliimadiagramm, sest

Koht Jerevani kliimadiagramm, sest

Koht..... Länkærani (rannikulinn Kura jõe suudmest 70 km lõuna pool) kliimadiagramm, sest

9. a) Mida on fotol A (viimasel leheküljel) kujutatud?4 punkti

b) Mis tingimustes selline nähtus tekib?

c) Mis loodusvöönditele on see eriti iseloomulik?

10. a) Miks on lehtmetsad laiema levikuga rannikualadel kui sisemaal?

4 punkti

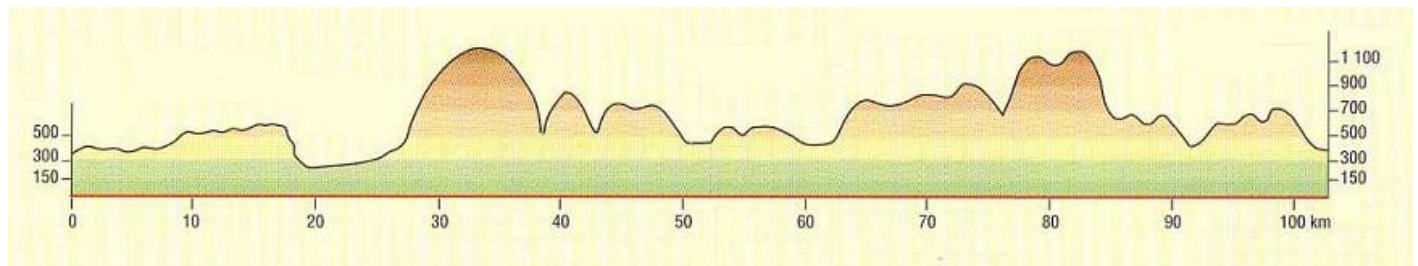
b) Miks on Põhja-Ameerika lehtmetsad liigirikkamad kui Euroopa lehtmetsad?

11. Millest on tingitud, et erinevates mäestikes on erinev kõrgusvööndite arv ja vahelduvad eri taimekooslused. 4 punkti

12. Paranda vead järgmises tekstis. 4 punkti

Tundravöönd on suurima levialaga loodusvöönd maailmas. Ta esineb põhjapoolkera mandrite põhjaosas ja lõunapoolkera mandrite lõunaosas. Suur sademete hulk põhjustab pinnase liigniiskust ja laialdast soostumist. Pinnas külmub sügavalt ja tekib kirsmaa. Tundras puid ei kasva. Tundras elavad jääkarud, lemmingud, polaarrebased ning põhjapõdrad.

13. a) Vaata atlasest, mis joonelt Slovakkias on tehtud juuresolev profiiljoon? 2 punkti



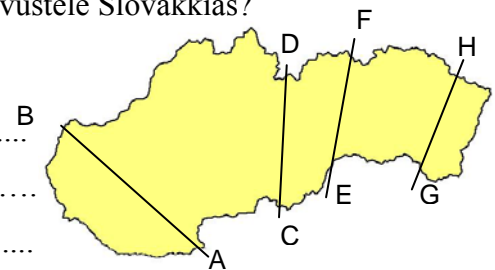
b) Millist mõju on mägine pinnamood avaldanud järgmistele majandustegevustele Slovakkias?

3 punkti

Põllumajandus –

Turism –

Energiamajandus –



14. Mida tähendab väide: *Päikeseenergia on salvestunud kivimites.* 2 punkti

d) Fotol B on kujutatud öö ja päeva piiri. Mis kuust (detsember, märts, juuni, september) on see pilt tehtud? 3 punkti

15. Fotodel C, D, E ja F on neli tuntud ja olulist kanalit maailmas. Nimeta need. 4 punkti

Foto C Foto D

Foto E Foto F

